

EĞLENCELİ MATEMATİK - 2

Her katın toplamı apartman numarasını veriyor. Verilmeyen numaraları bulunuz.

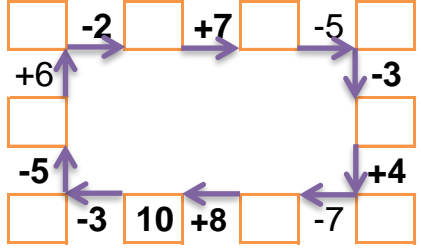
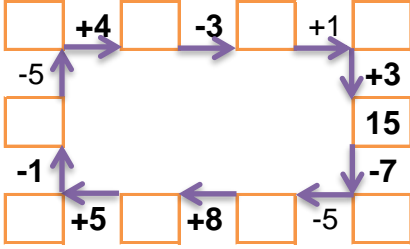
14		
1	4	
	7	1
3	4	2

14		
2	6	
	1	7
	9	1

16		
	3	7
6		6
5	4	

16		
3	7	
4	4	4
5	6	

Verilen sayıdan başlayarak ok yönünde işlemleri yapın ve verilmeyen sayıları bulun.



EĞLENCELİ MATEMATİK - 2

Her katın toplamı apartman numarasını veriyor. Verilmeyen numaraları bulunuz.

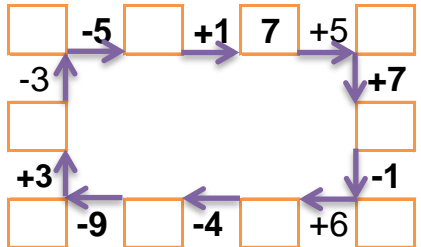
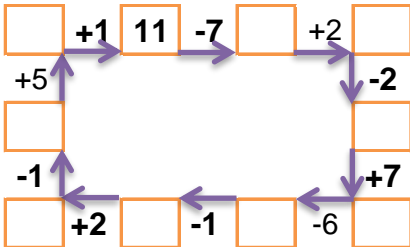
14		
	3	6
9		3
7		1

7		
2	3	
5	1	5
4	5	

7		
2		2
4	1	
	3	3

8		
1		5
4	1	
	6	1

Verilen sayıdan başlayarak ok yönünde işlemleri yapın ve verilmeyen sayıları bulun.



EĞLENCELİ MATEMATİK - 2

Her katın toplamı apartman numarasını veriyor. Verilmeyen numaraları bulunuz.

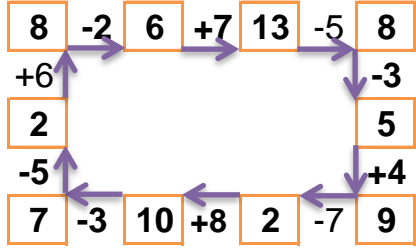
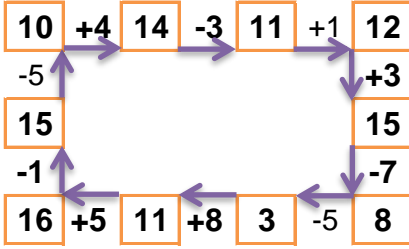
9		
1	4	4
1	7	1
3	4	2

14		
2	6	6
6	1	7
4	9	1

16		
6	3	7
6	4	6
5	4	7

12		
3	7	2
4	4	4
5	6	1

Verilen sayıdan başlayarak ok yönünde işlemleri yapın ve verilmeyen sayıları bulun.



EĞLENCELİ MATEMATİK - 2

Her katın toplamı apartman numarasını veriyor. Verilmeyen numaraları bulunuz.

14		
5	3	6
9	2	3
7	6	1

11		
2	3	6
5	1	5
4	5	2

7		
2	3	2
4	1	2
1	3	3

8		
1	2	5
4	1	3
1	6	1

Verilen sayıdan başlayarak ok yönünde işlemleri yapın ve verilmeyen sayıları bulun.

