

## EĞLENCELİ MATEMATİK - 2

Her katın toplamı apartman numarasını veriyor. Verilmeyen numaraları bulunuz.

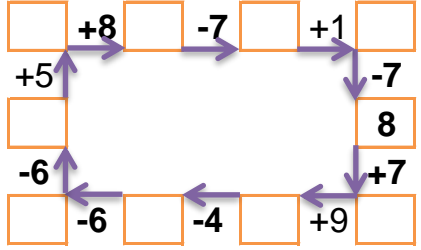
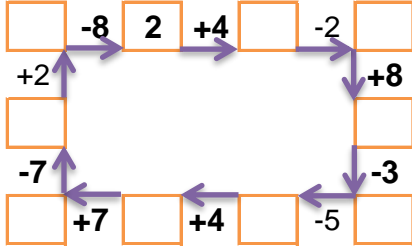
15		
2	5	
4		8
	5	9

9		
	3	5
	3	4
6		1

7		
1		3
1		2
5	1	

13		
	3	1
4	2	
	3	6

Verilen sayıdan başlayarak ok yönünde işlemleri yapın ve verilmeyen sayıları bulun.



## EĞLENCELİ MATEMATİK - 2

Her katın toplamı apartman numarasını veriyor. Verilmeyen numaraları bulunuz.

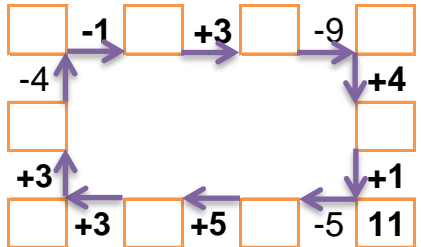
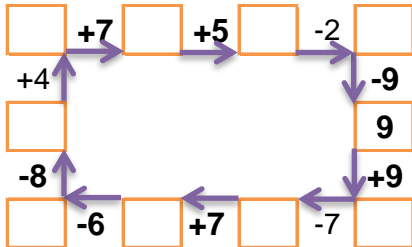
15		
1		4
	3	1
5	2	2

9		
3		3
1	5	1
	1	4

10		
1	4	
3		1
1		2

13		
7		2
	4	8
4	4	7

Verilen sayıdan başlayarak ok yönünde işlemleri yapın ve verilmeyen sayıları bulun.



## EĞLENCELİ MATEMATİK - 2

Her katın toplamı apartman numarasını veriyor. Verilmeyen numaraları bulunuz.

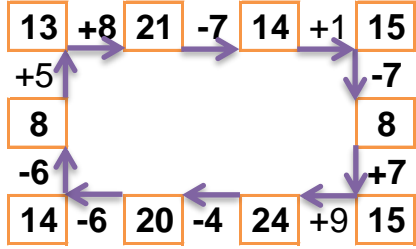
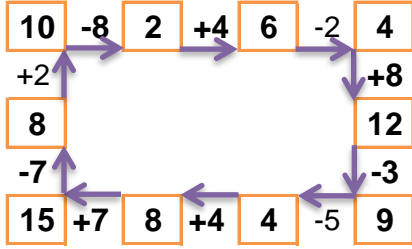
15		
2	5	8
4	3	8
1	5	9

9		
1	3	5
2	3	4
6	2	1

7		
1	3	3
1	4	2
5	1	1

13		
9	3	1
4	2	7
4	3	6

Verilen sayıdan başlayarak ok yönünde işlemleri yapın ve verilmeyen sayıları bulun.



## EĞLENCELİ MATEMATİK - 2

Her katın toplamı apartman numarasını veriyor. Verilmeyen numaraları bulunuz.

9		
1	4	4
5	3	1
5	2	2

7		
3	1	3
1	5	1
2	1	4

10		
1	4	5
3	6	1
1	7	2

15		
7	6	2
3	4	8
4	4	7

Verilen sayıdan başlayarak ok yönünde işlemleri yapın ve verilmeyen sayıları bulun.

