

## EĞLENCELİ MATEMATİK - 2

Her katın toplamı apartman numarasını veriyor. Verilmeyen numaraları bulunuz.

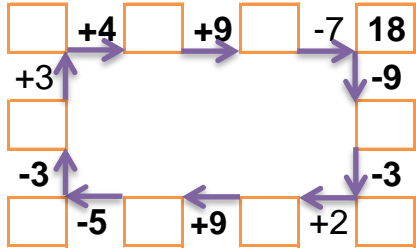
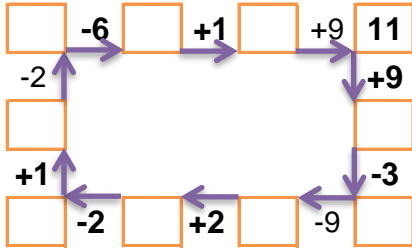
14		
2		8
6	2	
	4	7

3	4	8
5	5	
7		6

7		
	2	3
	1	5
1		2

9		
1		5
4		3
	4	1

Verilen sayıdan başlayarak ok yönünde işlemleri yapın ve verilmeyen sayıları bulun.



## EĞLENCELİ MATEMATİK - 2

Her katın toplamı apartman numarasını veriyor. Verilmeyen numaraları bulunuz.

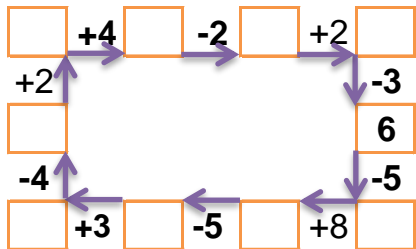
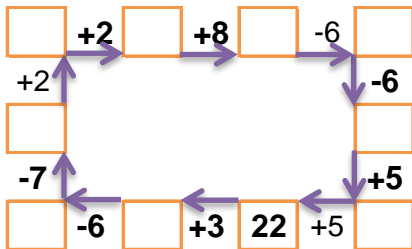
8		
3	2	
4		2
2	1	

	4	7
3		3
5	6	3

	4	6
8		2
9	1	1

7	1	2
1		5
	1	1

Verilen sayıdan başlayarak ok yönünde işlemleri yapın ve verilmeyen sayıları bulun.



## EĞLENCELİ MATEMATİK - 2

Her katın toplamı apartman numarasını veriyor. Verilmeyen numaraları bulunuz.

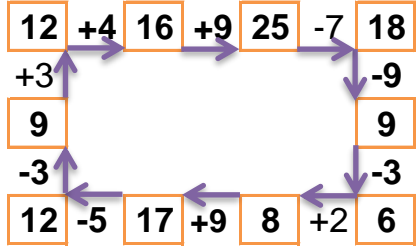
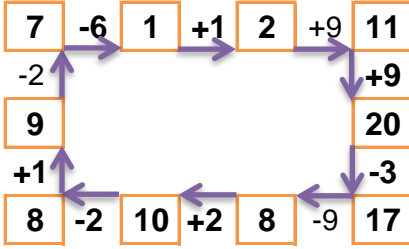
14		
2	4	8
6	2	6
3	4	7

15		
3	4	8
5	5	5
7	2	6

7		
2	2	3
1	1	5
1	4	2

9		
1	3	5
4	2	3
4	4	1

Verilen sayıdan başlayarak ok yönünde işlemleri yapın ve verilmeyen sayıları bulun.



## EĞLENCELİ MATEMATİK - 2

Her katın toplamı apartman numarasını veriyor. Verilmeyen numaraları bulunuz.

8		
3	2	3
4	2	2
2	1	5

14		
3	4	7
3	8	3
5	6	3

11		
1	4	6
8	1	2
9	1	1

10		
7	1	2
1	4	5
8	1	1

Verilen sayıdan başlayarak ok yönünde işlemleri yapın ve verilmeyen sayıları bulun.

