

EĞLENCELİ MATEMATİK - 2

Her katın toplamı apartman numarasını veriyor. Verilmeyen numaraları bulunuz.

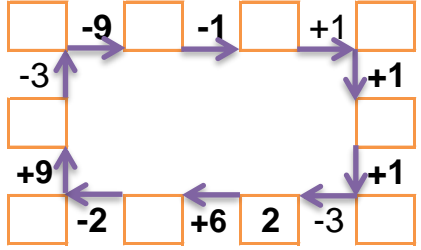
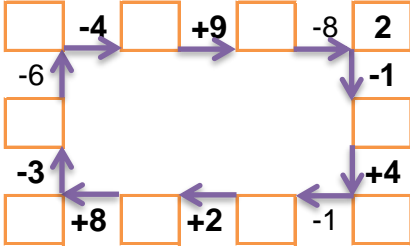
13		
1		6
6	5	
	8	2

9		
2	2	6
	3	5
4		1

9		
4		4
	4	3
	1	5

8		
3		2
5	1	
	3	1

Verilen sayıdan başlayarak ok yönünde işlemleri yapın ve verilmeyen sayıları bulun.



EĞLENCELİ MATEMATİK - 2

Her katın toplamı apartman numarasını veriyor. Verilmeyen numaraları bulunuz.

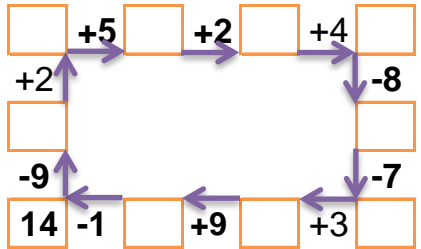
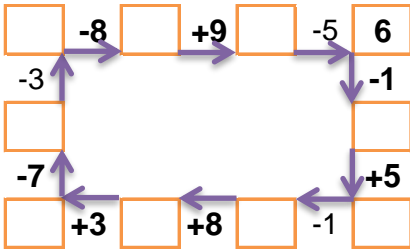
16		
4	2	
	9	1
	5	4

9		
2		3
6	1	
	5	1

7		
1	2	7
	4	3
3		2

7		
1		3
	1	5
	2	4

Verilen sayıdan başlayarak ok yönünde işlemleri yapın ve verilmeyen sayıları bulun.



EĞLENCELİ MATEMATİK - 2

Her katın toplamı apartman numarasını veriyor. Verilmeyen numaraları bulunuz.

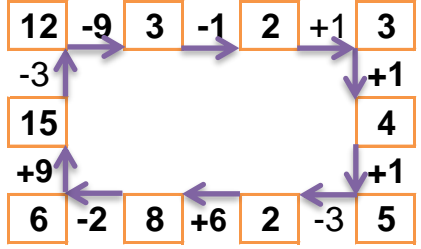
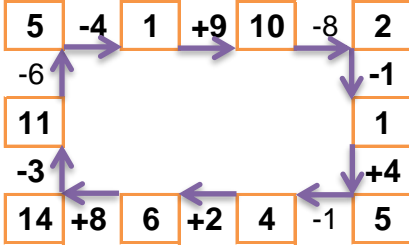
13		
1	6	6
6	5	2
3	8	2

10		
2	2	6
2	3	5
4	5	1

9		
4	1	4
2	4	3
3	1	5

8		
3	3	2
5	1	2
4	3	1

Verilen sayıdan başlayarak ok yönünde işlemleri yapın ve verilmeyen sayıları bulun.



EĞLENCELİ MATEMATİK - 2

Her katın toplamı apartman numarasını veriyor. Verilmeyen numaraları bulunuz.

16		
4	2	10
6	9	1
7	5	4

9		
2	4	3
6	1	2
3	5	1

10		
1	2	7
3	4	3
3	5	2

7		
1	3	3
1	1	5
1	2	4

Verilen sayıdan başlayarak ok yönünde işlemleri yapın ve verilmeyen sayıları bulun.

