

EĞLENCELİ MATEMATİK - 2

Her katın toplamı apartman numarasını veriyor. Verilmeyen numaraları bulunuz.

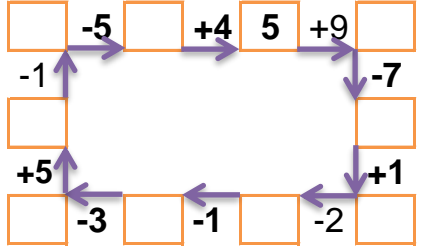
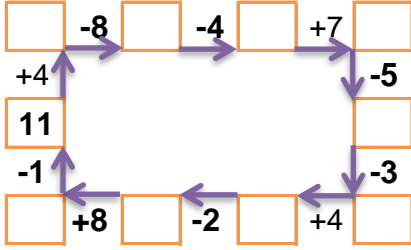
5		1
2		7
1	2	10

6	3	3
	5	4
2	5	

	2	6
3	10	1
5		3

	1	5
1	3	4
2		4

Verilen sayıdan başlayarak ok yönünde işlemleri yapın ve verilmeyen sayıları bulun.



EĞLENCELİ MATEMATİK - 2

Her katın toplamı apartman numarasını veriyor. Verilmeyen numaraları bulunuz.

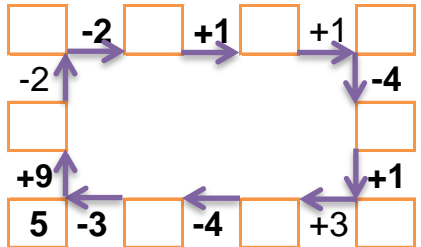
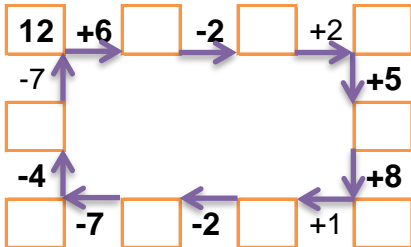
12		
1		1
7		3
	1	8

11		
6		4
3		6
	2	7

	5	1
5		3
3	9	3

16		
4		6
2		10
3		9

Verilen sayıdan başlayarak ok yönünde işlemleri yapın ve verilmeyen sayıları bulun.



EĞLENCELİ MATEMATİK - 2

Her katın toplamı apartman numarasını veriyor. Verilmeyen numaraları bulunuz.

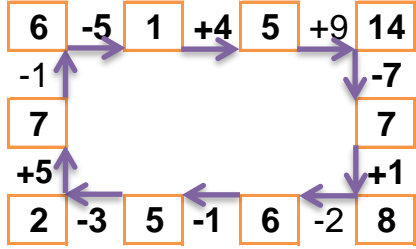
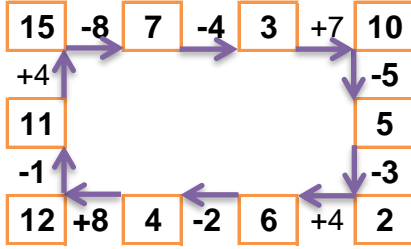
13		
5	7	1
2	4	7
1	2	10

12		
6	3	3
3	5	4
2	5	5

14		
6	2	6
3	10	1
5	6	3

8		
2	1	5
1	3	4
2	2	4

Verilen sayıdan başlayarak ok yönünde işlemleri yapın ve verilmeyen sayıları bulun.



EĞLENCELİ MATEMATİK - 2

Her katın toplamı apartman numarasını veriyor. Verilmeyen numaraları bulunuz.

12		
1	10	1
7	2	3
3	1	8

11		
6	1	4
3	2	6
2	2	7

15		
9	5	1
5	7	3
3	9	3

16		
4	6	6
2	4	10
3	4	9

Verilen sayıdan başlayarak ok yönünde işlemleri yapın ve verilmeyen sayıları bulun.

