

EĞLENCELİ MATEMATİK - 2

Her katın toplamı apartman numarasını veriyor. Verilmeyen numaraları bulunuz.

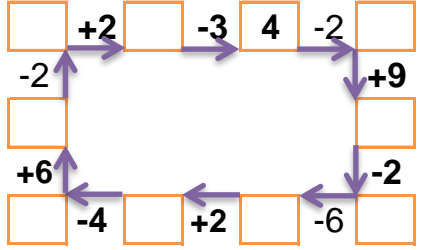
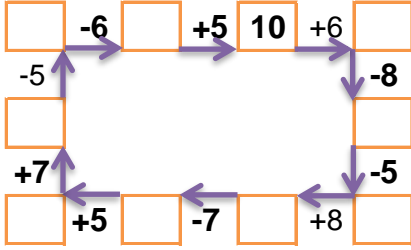
6	3	1
5		3
6	2	

6	1	1
4		3
5		1

15		
7		7
2		6
	10	4

10	4	
8	1	7
10		3

Verilen sayıdan başlayarak ok yönünde işlemleri yapın ve verilmeyen sayıları bulun.



EĞLENCELİ MATEMATİK - 2

Her katın toplamı apartman numarasını veriyor. Verilmeyen numaraları bulunuz.

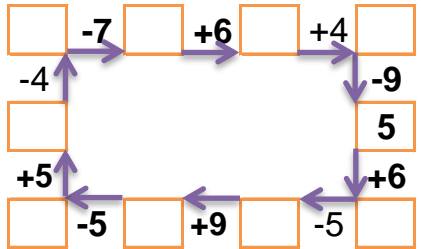
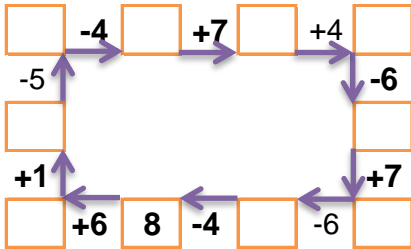
1		2
	1	7
1	5	5

9		2
1	8	4
	3	4

15		
	6	5
8	2	
10		4

12		
8	2	
6		3
	8	3

Verilen sayıdan başlayarak ok yönünde işlemleri yapın ve verilmeyen sayıları bulun.



EĞLENCELİ MATEMATİK - 2

Her katın toplamı apartman numarasını veriyor. Verilmeyen numaraları bulunuz.

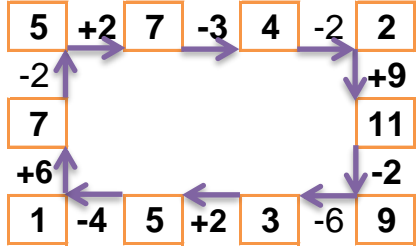
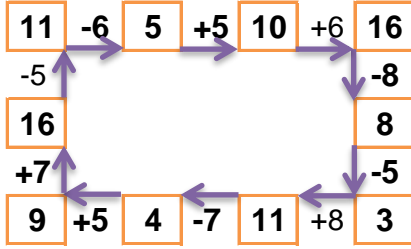
10		
6	3	1
5	2	3
6	2	2

8		
6	1	1
4	1	3
5	2	1

15		
7	1	7
2	7	6
1	10	4

16		
10	4	2
8	1	7
10	3	3

Verilen sayıdan başlayarak ok yönünde işlemleri yapın ve verilmeyen sayıları bulun.



EĞLENCELİ MATEMATİK - 2

Her katın toplamı apartman numarasını veriyor. Verilmeyen numaraları bulunuz.

11		
1	8	2
3	1	7
1	5	5

13		
9	2	2
1	8	4
6	3	4

15		
4	6	5
8	2	5
10	1	4

12		
8	2	2
6	3	3
1	8	3

Verilen sayıdan başlayarak ok yönünde işlemleri yapın ve verilmeyen sayıları bulun.

