

EĞLENCELİ MATEMATİK - 2

Her katın toplamı apartman numarasını veriyor. Verilmeyen numaraları bulunuz.

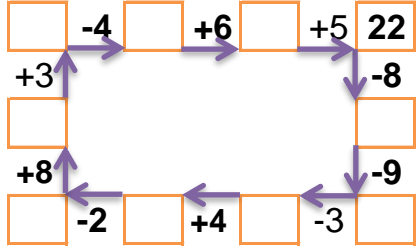
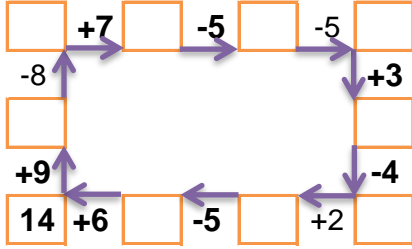
15		
2		9
1		4
2	10	

11		
	3	6
1	2	
	5	2

7		
5		1
2		1
1	3	

9		
2	2	
	1	7
2	6	

Verilen sayıdan başlayarak ok yönünde işlemleri yapın ve verilmeyen sayıları bulun.



EĞLENCELİ MATEMATİK - 2

Her katın toplamı apartman numarasını veriyor. Verilmeyen numaraları bulunuz.

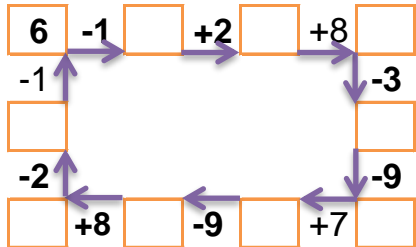
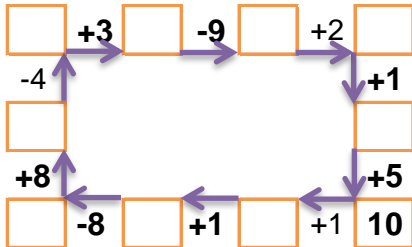
	9	5
	9	3
6	8	1

10		
	1	7
1	5	
1	1	

11		
	1	3
8		1
4	6	

1		4
3		3
1	5	1

Verilen sayıdan başlayarak ok yönünde işlemleri yapın ve verilmeyen sayıları bulun.



EĞLENCELİ MATEMATİK - 2

Her katın toplamı apartman numarasını veriyor. Verilmeyen numaraları bulunuz.

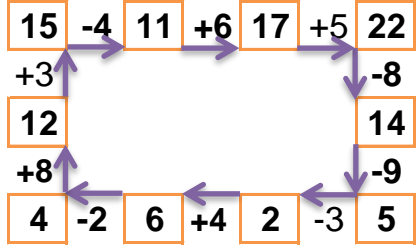
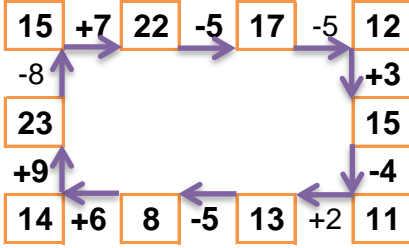
15		
2	4	9
1	10	4
2	10	3

11		
2	3	6
1	2	8
4	5	2

7		
5	1	1
2	4	1
1	3	3

9		
2	2	5
1	1	7
2	6	1

Verilen sayıdan başlayarak ok yönünde işlemleri yapın ve verilmeyen sayıları bulun.



EĞLENCELİ MATEMATİK - 2

Her katın toplamı apartman numarasını veriyor. Verilmeyen numaraları bulunuz.

15		
1	9	5
3	9	3
6	8	1

10		
2	1	7
1	5	4
1	1	8

11		
7	1	3
8	2	1
4	6	1

7		
1	2	4
3	1	3
1	5	1

Verilen sayıdan başlayarak ok yönünde işlemleri yapın ve verilmeyen sayıları bulun.

