

EĞLENCELİ MATEMATİK - 2

Her katın toplamı apartman numarasını veriyor. Verilmeyen numaraları bulunuz.

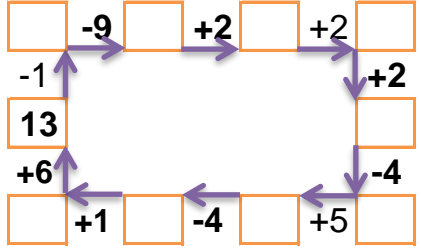
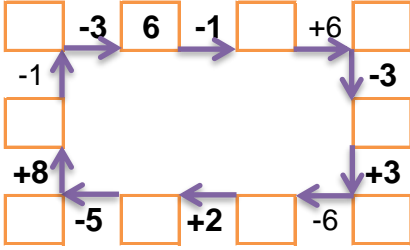
7	1	5
	3	8
7		3

1	5	9
5		6
9		2

5	2	1
1		3
4	2	

16		
8	3	
1	5	
7	1	

Verilen sayıdan başlayarak ok yönünde işlemleri yapın ve verilmeyen sayıları bulun.



EĞLENCELİ MATEMATİK - 2

Her katın toplamı apartman numarasını veriyor. Verilmeyen numaraları bulunuz.

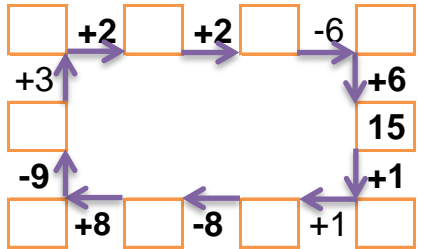
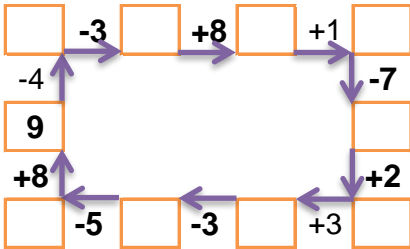
16		
5	6	
6		8
	9	2

3	3	
	1	5
2	3	2

1	6	
8	1	1
4		4

15		
4	6	
8		5
4		1

Verilen sayıdan başlayarak ok yönünde işlemleri yapın ve verilmeyen sayıları bulun.



EĞLENCELİ MATEMATİK - 2

Her katın toplamı apartman numarasını veriyor. Verilmeyen numaraları bulunuz.

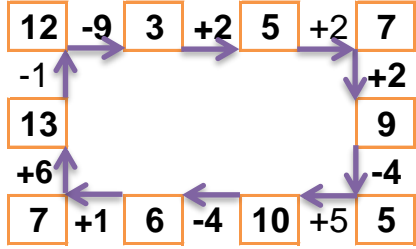
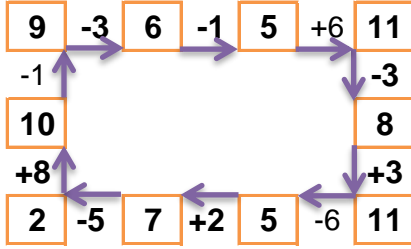
13		
7	1	5
2	3	8
7	3	3

15		
1	5	9
5	4	6
9	4	2

8		
5	2	1
1	4	3
4	2	2

16		
8	3	5
1	5	10
7	1	8

Verilen sayıdan başlayarak ok yönünde işlemleri yapın ve verilmeyen sayıları bulun.



EĞLENCELİ MATEMATİK - 2

Her katın toplamı apartman numarasını veriyor. Verilmeyen numaraları bulunuz.

16		
5	6	5
6	2	8
5	9	2

7		
3	3	1
1	1	5
2	3	2

10		
1	6	3
8	1	1
4	2	4

15		
4	6	5
8	2	5
4	10	1

Verilen sayıdan başlayarak ok yönünde işlemleri yapın ve verilmeyen sayıları bulun.

