

EĞLENCELİ MATEMATİK - 2

Her katın toplamı apartman numarasını veriyor. Verilmeyen numaraları bulunuz.

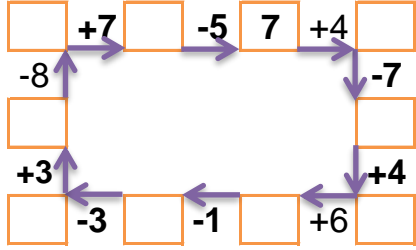
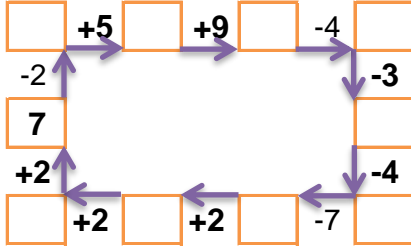
7		
1		2
5	1	
	3	3

12		
	1	10
	2	4
3	7	

4		4
2	4	3
	1	2

	1	7
3	2	9
	10	3

Verilen sayıdan başlayarak ok yönünde işlemleri yapın ve verilmeyen sayıları bulun.



EĞLENCELİ MATEMATİK - 2

Her katın toplamı apartman numarasını veriyor. Verilmeyen numaraları bulunuz.

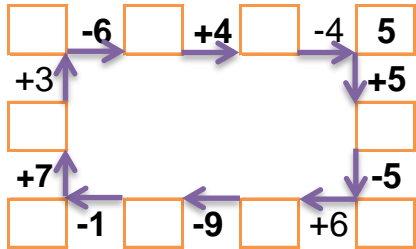
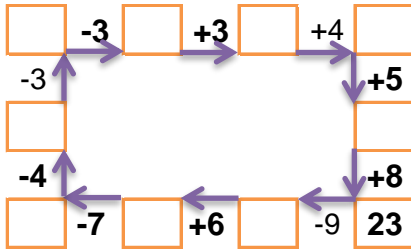
3	2	4
3		5
	6	2

10		
3	1	
2	1	
1	8	

8		
2	1	
2		4
	3	1

11		
	4	1
	1	7
1	5	

Verilen sayıdan başlayarak ok yönünde işlemleri yapın ve verilmeyen sayıları bulun.



EĞLENCELİ MATEMATİK - 2

Her katın toplamı apartman numarasını veriyor. Verilmeyen numaraları bulunuz.

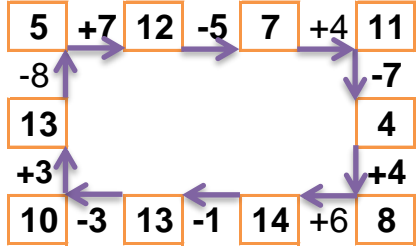
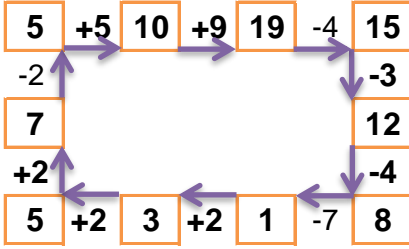
7		
1	4	2
5	1	1
1	3	3

12		
1	1	10
6	2	4
3	7	2

9		
4	1	4
2	4	3
6	1	2

14		
6	1	7
3	2	9
1	10	3

Verilen sayıdan başlayarak ok yönünde işlemleri yapın ve verilmeyen sayıları bulun.



EĞLENCELİ MATEMATİK - 2

Her katın toplamı apartman numarasını veriyor. Verilmeyen numaraları bulunuz.

9		
3	2	4
3	1	5
1	6	2

10		
3	1	6
2	1	7
1	8	1

8		
2	1	5
2	2	4
4	3	1

11		
6	4	1
3	1	7
1	5	5

Verilen sayıdan başlayarak ok yönünde işlemleri yapın ve verilmeyen sayıları bulun.

