

## EĞLENCELİ MATEMATİK - 2

Her katın toplamı apartman numarasını veriyor. Verilmeyen numaraları bulunuz.

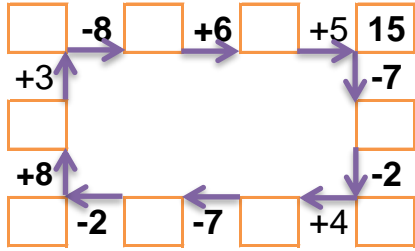
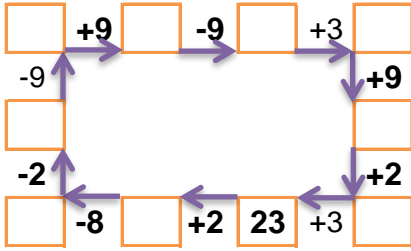
1		2
1	5	
3	2	4

	5	5
	4	7
3	7	2

	4	8
	1	3
	4	7

	3	10
10		5
4	9	3

Verilen sayıdan başlayarak ok yönünde işlemleri yapın ve verilmeyen sayıları bulun.



## EĞLENCELİ MATEMATİK - 2

Her katın toplamı apartman numarasını veriyor. Verilmeyen numaraları bulunuz.

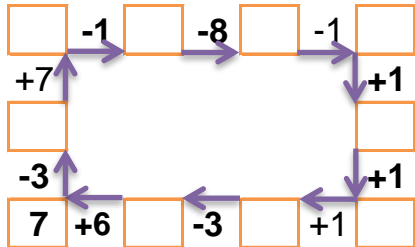
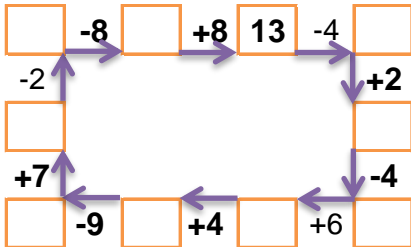
	15	
3	9	
	8	4
	7	2

5	1	1
1		3
	3	2

8		1
7	2	
6	1	4

3		2
2	4	
5	4	3

Verilen sayıdan başlayarak ok yönünde işlemleri yapın ve verilmeyen sayıları bulun.



## EĞLENCELİ MATEMATİK - 2

Her katın toplamı apartman numarasını veriyor. Verilmeyen numaraları bulunuz.

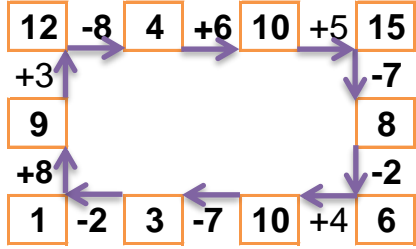
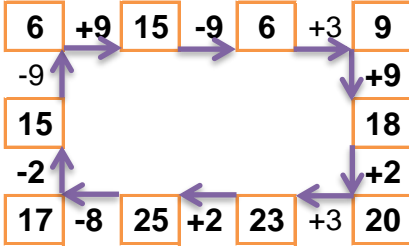
9		
1	6	2
1	5	3
3	2	4

12		
2	5	5
1	4	7
3	7	2

13		
1	4	8
9	1	3
2	4	7

16		
3	3	10
10	1	5
4	9	3

Verilen sayıdan başlayarak ok yönünde işlemleri yapın ve verilmeyen sayıları bulun.



## EĞLENCELİ MATEMATİK - 2

Her katın toplamı apartman numarasını veriyor. Verilmeyen numaraları bulunuz.

15		
3	9	3
3	8	4
6	7	2

7		
5	1	1
1	3	3
2	3	2

11		
8	2	1
7	2	2
6	1	4

12		
3	7	2
2	4	6
5	4	3

Verilen sayıdan başlayarak ok yönünde işlemleri yapın ve verilmeyen sayıları bulun.

