

## EĞLENCELİ MATEMATİK - 2

Her katın toplamı apartman numarasını veriyor. Verilmeyen numaraları bulunuz.

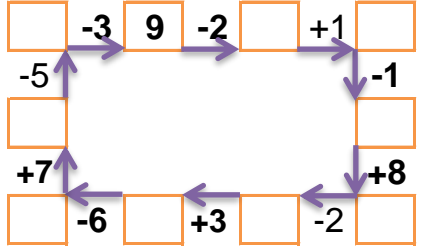
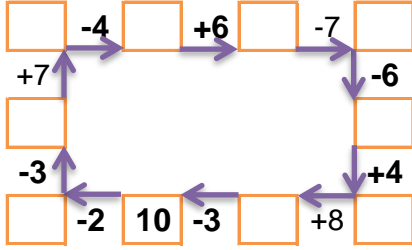
13		
	7	1
	5	5
2		7

14		
5	10	1
6	7	
	4	8

14		
	2	5
10		2
3		7

8		
1		6
	1	5
3		3

Verilen sayıdan başlayarak ok yönünde işlemleri yapın ve verilmeyen sayıları bulun.



## EĞLENCELİ MATEMATİK - 2

Her katın toplamı apartman numarasını veriyor. Verilmeyen numaraları bulunuz.

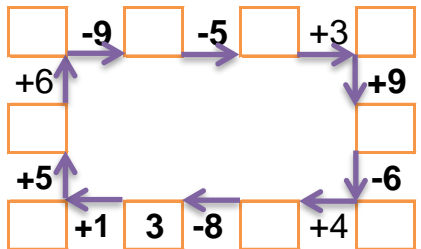
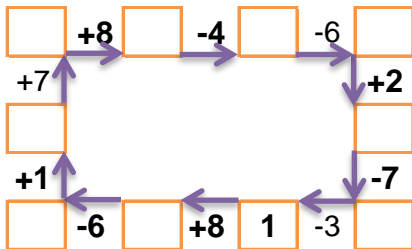
13		
5	5	
	6	5
	7	4

12		
6		4
	10	1
3	7	

7		
4	3	
	7	1
3	5	1

7		
1	3	
4	1	
5		1

Verilen sayıdan başlayarak ok yönünde işlemleri yapın ve verilmeyen sayıları bulun.



## EĞLENCELİ MATEMATİK - 2

Her katın toplamı apartman numarasını veriyor. Verilmeyen numaraları bulunuz.

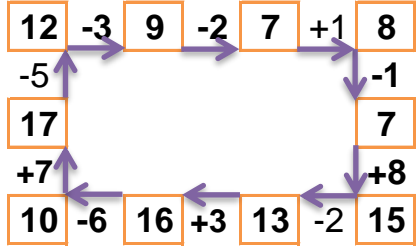
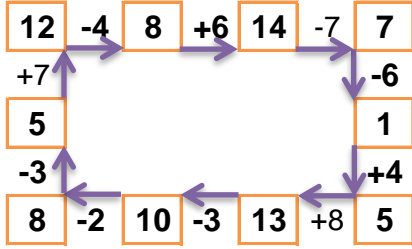
13		
5	7	1
3	5	5
2	4	7

16		
5	10	1
6	7	3
4	4	8

14		
7	2	5
10	2	2
3	4	7

8		
1	1	6
2	1	5
3	2	3

Verilen sayıdan başlayarak ok yönünde işlemleri yapın ve verilmeyen sayıları bulun.



## EĞLENCELİ MATEMATİK - 2

Her katın toplamı apartman numarasını veriyor. Verilmeyen numaraları bulunuz.

13		
5	5	3
2	6	5
2	7	4

12		
6	2	4
1	10	1
3	7	2

9		
2	4	3
1	7	1
3	5	1

7		
1	3	3
4	1	2
5	1	1

Verilen sayıdan başlayarak ok yönünde işlemleri yapın ve verilmeyen sayıları bulun.

