

EĞLENCELİ MATEMATİK - 2

Her katın toplamı apartman numarasını veriyor. Verilmeyen numaraları bulunuz.

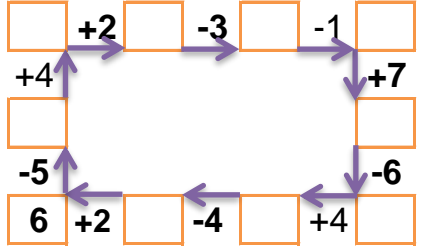
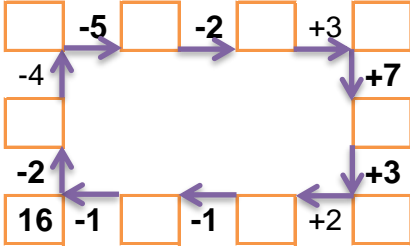
	3	7
4		4
6	3	6

4		6
3	5	5
8		3

5	2	1
4		3
	4	2

7		
2		4
3	1	
1		1

Verilen sayıdan başlayarak ok yönünde işlemleri yapın ve verilmeyen sayıları bulun.



EĞLENCELİ MATEMATİK - 2

Her katın toplamı apartman numarasını veriyor. Verilmeyen numaraları bulunuz.

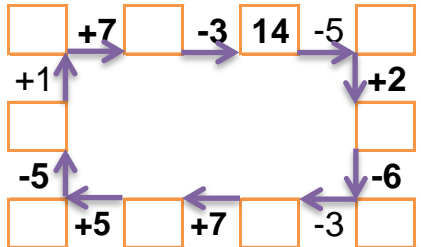
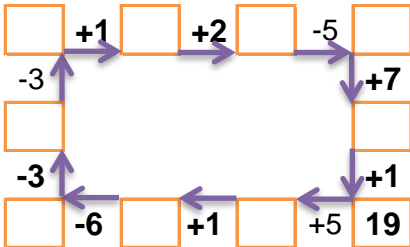
3		5
1		6
2	6	4

8		
2		4
	3	3
1		6

5	2	
1		7
1	2	6

	3	1
	2	7
4	3	6

Verilen sayıdan başlayarak ok yönünde işlemleri yapın ve verilmeyen sayıları bulun.



EĞLENCELİ MATEMATİK - 2

Her katın toplamı apartman numarasını veriyor. Verilmeyen numaraları bulunuz.

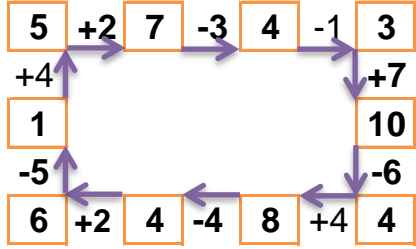
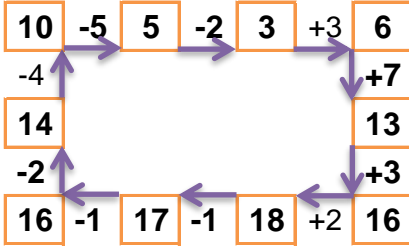
15		
5	3	7
4	7	4
6	3	6

13		
4	3	6
3	5	5
8	2	3

8		
5	2	1
4	1	3
2	4	2

7		
2	1	4
3	1	3
1	5	1

Verilen sayıdan başlayarak ok yönünde işlemleri yapın ve verilmeyen sayıları bulun.



EĞLENCELİ MATEMATİK - 2

Her katın toplamı apartman numarasını veriyor. Verilmeyen numaraları bulunuz.

12		
3	4	5
1	5	6
2	6	4

8		
2	2	4
2	3	3
1	1	6

9		
5	2	2
1	1	7
1	2	6

13		
9	3	1
4	2	7
4	3	6

Verilen sayıdan başlayarak ok yönünde işlemleri yapın ve verilmeyen sayıları bulun.

