

## EĞLENCELİ MATEMATİK - 2

Her katın toplamı apartman numarasını veriyor. Verilmeyen numaraları bulunuz.

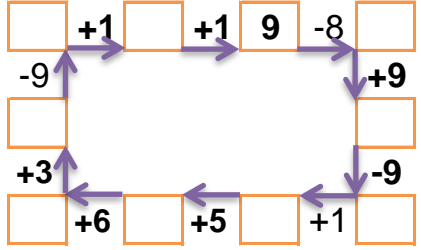
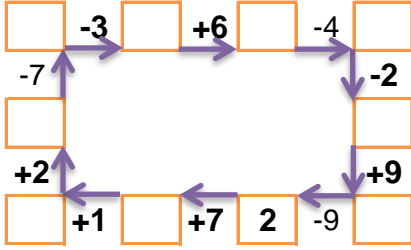
1	6	1
3	1	
2	1	

	4	5
3	1	6
2		3

	6	9
3	9	4
5	4	

14		
4	6	
	6	2
10		3

Verilen sayıdan başlayarak ok yönünde işlemleri yapın ve verilmeyen sayıları bulun.



## EĞLENCELİ MATEMATİK - 2

Her katın toplamı apartman numarasını veriyor. Verilmeyen numaraları bulunuz.

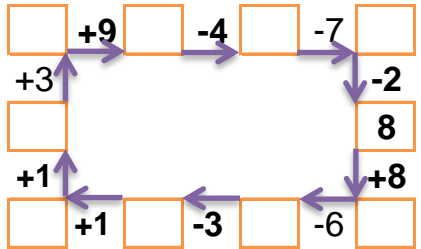
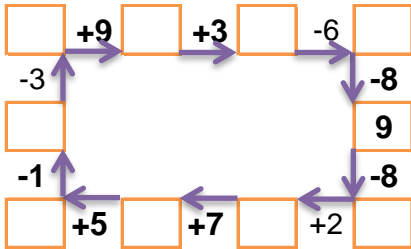
14		
10	2	
	4	6
9		3

10		
2		6
	5	1
	3	5

1	3	
2	3	
6	2	1

	5	1
3		3
2	1	4

Verilen sayıdan başlayarak ok yönünde işlemleri yapın ve verilmeyen sayıları bulun.



## EĞLENCELİ MATEMATİK - 2

Her katın toplamı apartman numarasını veriyor. Verilmeyen numaraları bulunuz.

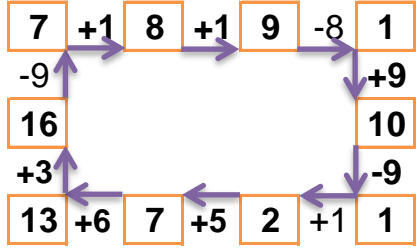
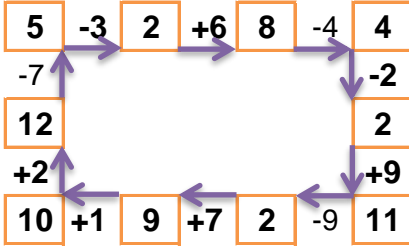
8		
1	6	1
3	1	4
2	1	5

10		
1	4	5
3	1	6
2	5	3

16		
1	6	9
3	9	4
5	4	7

14		
4	6	4
6	6	2
10	1	3

Verilen sayıdan başlayarak ok yönünde işlemleri yapın ve verilmeyen sayıları bulun.



## EĞLENCELİ MATEMATİK - 2

Her katın toplamı apartman numarasını veriyor. Verilmeyen numaraları bulunuz.

14		
10	2	2
4	4	6
9	2	3

10		
2	2	6
4	5	1
2	3	5

9		
1	3	5
2	3	4
6	2	1

7		
1	5	1
3	1	3
2	1	4

Verilen sayıdan başlayarak ok yönünde işlemleri yapın ve verilmeyen sayıları bulun.

