

EĞLENCELİ MATEMATİK - 2

Her katın toplamı apartman numarasını veriyor. Verilmeyen numaraları bulunuz.

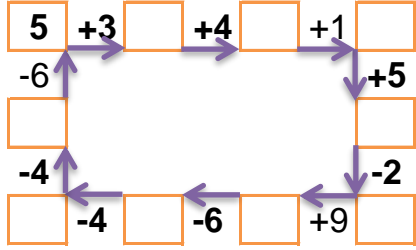
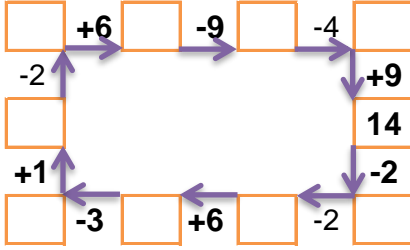
10		
	1	2
	3	1
2	2	4

10		
	4	4
1		6
6		2

13		
	3	2
	4	6
9	3	3

13		
2		8
	9	2
4	5	

Verilen sayıdan başlayarak ok yönünde işlemleri yapın ve verilmeyen sayıları bulun.



EĞLENCELİ MATEMATİK - 2

Her katın toplamı apartman numarasını veriyor. Verilmeyen numaraları bulunuz.

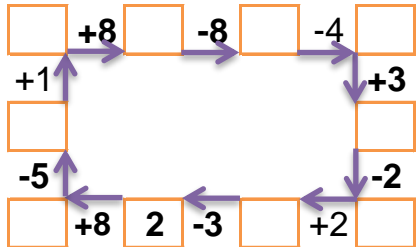
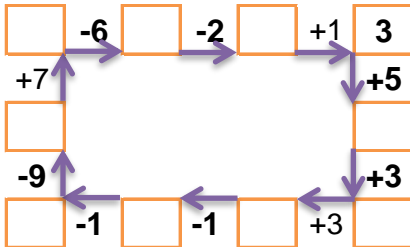
8		
5	1	
2	2	
	1	6

14		
2	4	
3	9	
10	3	

13		
	6	1
3	1	
1	5	5

13		
9	2	2
1	8	
	3	9

Verilen sayıdan başlayarak ok yönünde işlemleri yapın ve verilmeyen sayıları bulun.



EĞLENCELİ MATEMATİK - 2

Her katın toplamı apartman numarasını veriyor. Verilmeyen numaraları bulunuz.

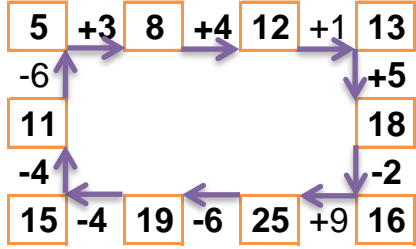
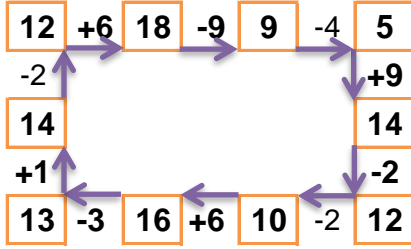
8		
5	1	2
4	3	1
2	2	4

10		
2	4	4
1	3	6
6	2	2

15		
10	3	2
5	4	6
9	3	3

13		
2	3	8
2	9	2
4	5	4

Verilen sayıdan başlayarak ok yönünde işlemleri yapın ve verilmeyen sayıları bulun.



EĞLENCELİ MATEMATİK - 2

Her katın toplamı apartman numarasını veriyor. Verilmeyen numaraları bulunuz.

8		
5	1	2
2	2	4
1	1	6

14		
2	4	8
3	9	2
10	3	1

11		
4	6	1
3	1	7
1	5	5

13		
9	2	2
1	8	4
1	3	9

Verilen sayıdan başlayarak ok yönünde işlemleri yapın ve verilmeyen sayıları bulun.

