

EĞLENCELİ MATEMATİK - 2

Her katın toplamı apartman numarasını veriyor. Verilmeyen numaraları bulunuz.

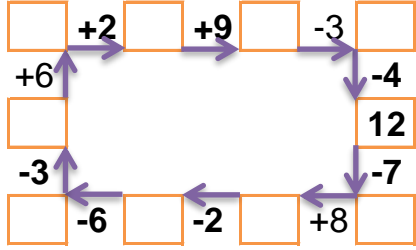
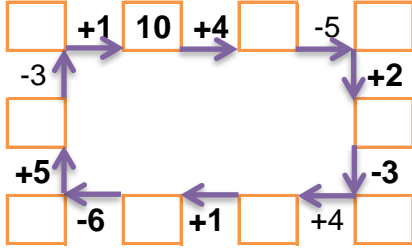
13		
	4	5
3		3
6	3	

11		
	3	7
2		1
	5	3

3	2	
3	1	5
	1	2

7		
1	1	
2	2	
	4	2

Verilen sayıdan başlayarak ok yönünde işlemleri yapın ve verilmeyen sayıları bulun.



EĞLENCELİ MATEMATİK - 2

Her katın toplamı apartman numarasını veriyor. Verilmeyen numaraları bulunuz.

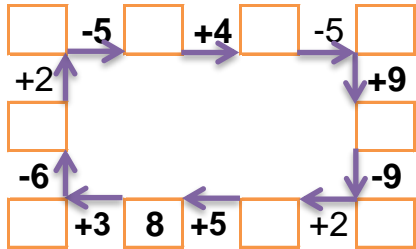
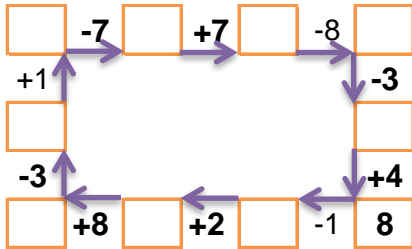
2	2	
	3	5
5	1	4

1	9	5
5		7
6	3	

2		7
3	5	5
2	5	

	8	1
2	6	4
	5	5

Verilen sayıdan başlayarak ok yönünde işlemleri yapın ve verilmeyen sayıları bulun.



EĞLENCELİ MATEMATİK - 2

Her katın toplamı apartman numarasını veriyor. Verilmeyen numaraları bulunuz.

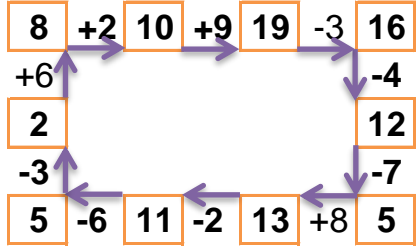
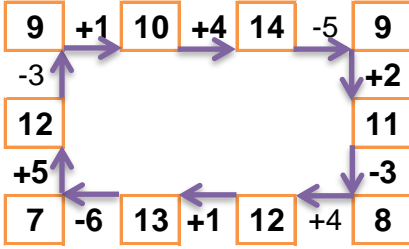
13		
4	4	5
3	7	3
6	3	4

11		
1	3	7
2	8	1
3	5	3

9		
3	2	4
3	1	5
6	1	2

7		
1	1	5
2	2	3
1	4	2

Verilen sayıdan başlayarak ok yönünde işlemleri yapın ve verilmeyen sayıları bulun.



EĞLENCELİ MATEMATİK - 2

Her katın toplamı apartman numarasını veriyor. Verilmeyen numaraları bulunuz.

10		
2	2	6
2	3	5
5	1	4

15		
1	9	5
5	3	7
6	3	6

13		
2	4	7
3	5	5
2	5	6

12		
3	8	1
2	6	4
2	5	5

Verilen sayıdan başlayarak ok yönünde işlemleri yapın ve verilmeyen sayıları bulun.

