

EĞLENCELİ MATEMATİK - 2

Her katın toplamı apartman numarasını veriyor. Verilmeyen numaraları bulunuz.

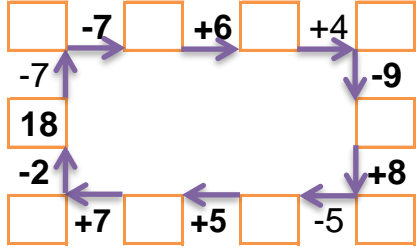
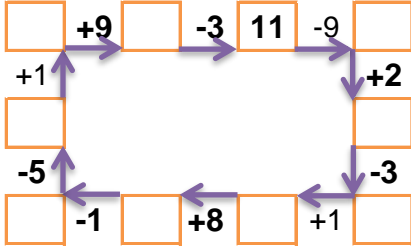
4	2	
1	6	
1	5	3

8		
2		4
	3	3
4	3	

	8	1
4	1	
3	5	6

14		
5	4	
	1	1
3	1	7

Verilen sayıdan başlayarak ok yönünde işlemleri yapın ve verilmeyen sayıları bulun.



EĞLENCELİ MATEMATİK - 2

Her katın toplamı apartman numarasını veriyor. Verilmeyen numaraları bulunuz.

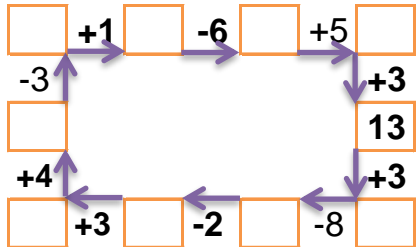
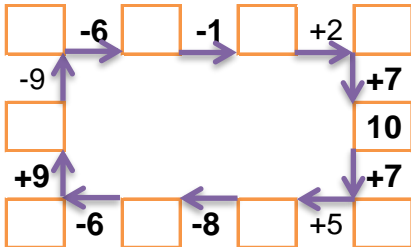
	4	5
3	1	6
3	2	

14		
1	1	
3	4	1
3		2

7	4	
3	5	5
	1	8

14		
	3	5
4		4
	2	7

Verilen sayıdan başlayarak ok yönünde işlemleri yapın ve verilmeyen sayıları bulun.



EĞLENCELİ MATEMATİK - 2

Her katın toplamı apartman numarasını veriyor. Verilmeyen numaraları bulunuz.

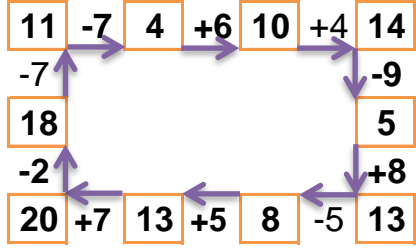
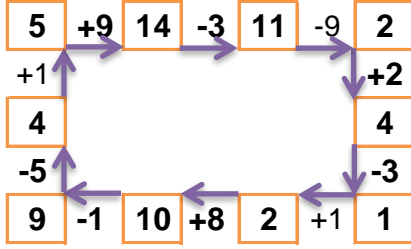
9		
4	2	3
1	6	2
1	5	3

8		
2	2	4
2	3	3
4	3	1

14		
5	8	1
4	1	9
3	5	6

11		
5	4	2
9	1	1
3	1	7

Verilen sayıdan başlayarak ok yönünde işlemleri yapın ve verilmeyen sayıları bulun.



EĞLENCELİ MATEMATİK - 2

Her katın toplamı apartman numarasını veriyor. Verilmeyen numaraları bulunuz.

10		
1	4	5
3	1	6
3	2	5

8		
1	1	6
3	4	1
3	3	2

13		
7	4	2
3	5	5
4	1	8

14		
6	3	5
4	6	4
5	2	7

Verilen sayıdan başlayarak ok yönünde işlemleri yapın ve verilmeyen sayıları bulun.

