

## EĞLENCELİ MATEMATİK - 2

Her katın toplamı apartman numarasını veriyor. Verilmeyen numaraları bulunuz.

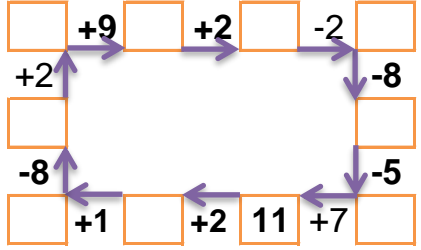
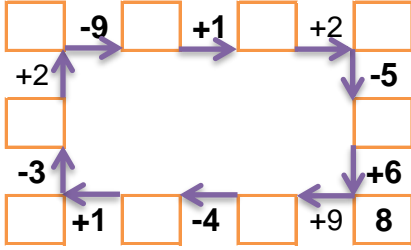
|   |   |   |
|---|---|---|
| 4 | 4 | 1 |
|   | 7 | 1 |
| 1 | 2 |   |

|   |    |   |
|---|----|---|
|   | 10 | 1 |
| 2 | 6  | 4 |
|   | 5  | 1 |

|   |   |   |
|---|---|---|
|   | 1 | 4 |
| 1 | 1 | 5 |
| 2 |   | 3 |

|   |   |   |
|---|---|---|
| 5 |   | 1 |
| 3 | 7 | 6 |
|   | 8 | 5 |

Verilen sayıdan başlayarak ok yönünde işlemleri yapın ve verilmeyen sayıları bulun.



## EĞLENCELİ MATEMATİK - 2

Her katın toplamı apartman numarasını veriyor. Verilmeyen numaraları bulunuz.

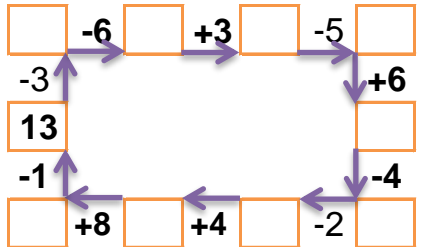
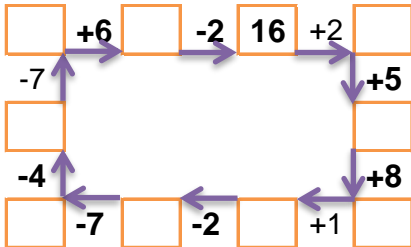
|    |   |   |
|----|---|---|
| 10 |   |   |
|    | 2 | 1 |
|    | 3 | 4 |
| 2  |   | 2 |

|   |   |   |
|---|---|---|
|   | 8 | 4 |
|   | 9 | 1 |
| 1 | 7 | 6 |

|    |   |   |
|----|---|---|
| 12 |   |   |
| 5  | 2 |   |
|    | 1 | 3 |
| 2  | 3 |   |

|   |   |   |
|---|---|---|
| 3 | 3 | 2 |
| 2 |   | 4 |
|   | 1 | 2 |

Verilen sayıdan başlayarak ok yönünde işlemleri yapın ve verilmeyen sayıları bulun.



## EĞLENCELİ MATEMATİK - 2

Her katın toplamı apartman numarasını veriyor. Verilmeyen numaraları bulunuz.

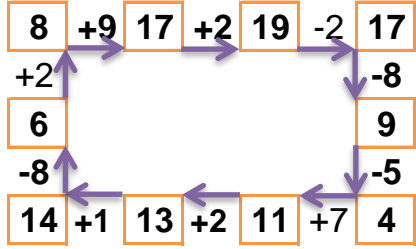
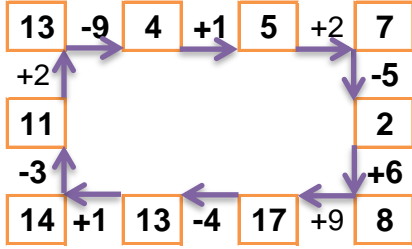
|   |   |   |
|---|---|---|
| 9 |   |   |
| 4 | 4 | 1 |
| 1 | 7 | 1 |
| 1 | 2 | 6 |

|    |    |   |
|----|----|---|
| 12 |    |   |
| 1  | 10 | 1 |
| 2  | 6  | 4 |
| 6  | 5  | 1 |

|   |   |   |
|---|---|---|
| 7 |   |   |
| 2 | 1 | 4 |
| 1 | 1 | 5 |
| 2 | 2 | 3 |

|    |    |   |
|----|----|---|
| 16 |    |   |
| 5  | 10 | 1 |
| 3  | 7  | 6 |
| 3  | 8  | 5 |

Verilen sayıdan başlayarak ok yönünde işlemleri yapın ve verilmeyen sayıları bulun.



## EĞLENCELİ MATEMATİK - 2

Her katın toplamı apartman numarasını veriyor. Verilmeyen numaraları bulunuz.

|    |   |   |
|----|---|---|
| 10 |   |   |
| 7  | 2 | 1 |
| 3  | 3 | 4 |
| 2  | 6 | 2 |

|    |   |   |
|----|---|---|
| 14 |   |   |
| 8  | 4 | 2 |
| 9  | 1 | 4 |
| 1  | 7 | 6 |

|    |   |   |
|----|---|---|
| 12 |   |   |
| 5  | 2 | 5 |
| 8  | 1 | 3 |
| 2  | 3 | 7 |

|   |   |   |
|---|---|---|
| 8 |   |   |
| 3 | 3 | 2 |
| 2 | 2 | 4 |
| 5 | 1 | 2 |

Verilen sayıdan başlayarak ok yönünde işlemleri yapın ve verilmeyen sayıları bulun.

