

EĞLENCELİ MATEMATİK - 2

Her katın toplamı apartman numarasını veriyor. Verilmeyen numaraları bulunuz.

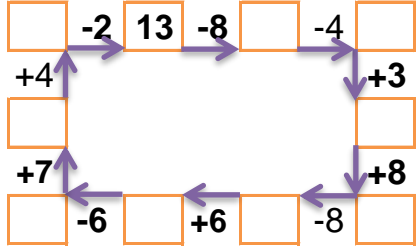
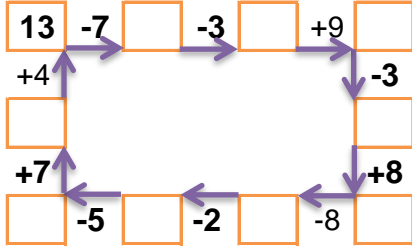
15		
4	10	
1		7
6	5	

14		
3	4	
3		1
	6	3

8		
1		2
3		3
4		3

	3	2
2		8
4	1	6

Verilen sayıdan başlayarak ok yönünde işlemleri yapın ve verilmeyen sayıları bulun.



EĞLENCELİ MATEMATİK - 2

Her katın toplamı apartman numarasını veriyor. Verilmeyen numaraları bulunuz.

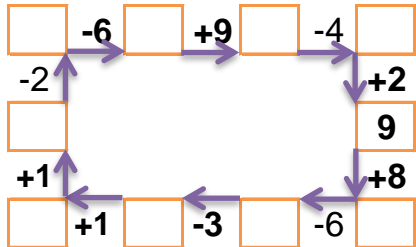
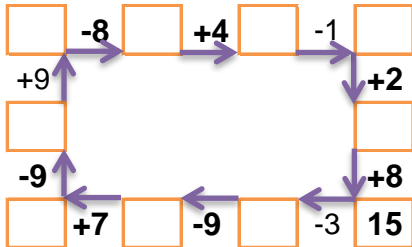
13		
1	3	
3		3
2		5

7		
7	4	5
2		9
10	2	

9		
1		1
4	4	
	2	6

14		
	1	6
4		7
8	2	

Verilen sayıdan başlayarak ok yönünde işlemleri yapın ve verilmeyen sayıları bulun.



EĞLENCELİ MATEMATİK - 2

Her katın toplamı apartman numarasını veriyor. Verilmeyen numaraları bulunuz.

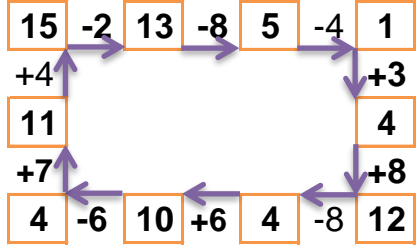
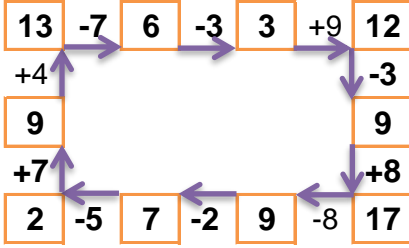
15		
4	10	1
1	7	7
6	5	4

14		
3	4	7
3	10	1
5	6	3

8		
1	5	2
3	2	3
4	1	3

11		
6	3	2
2	1	8
4	1	6

Verilen sayıdan başlayarak ok yönünde işlemleri yapın ve verilmeyen sayıları bulun.



EĞLENCELİ MATEMATİK - 2

Her katın toplamı apartman numarasını veriyor. Verilmeyen numaraları bulunuz.

13		
1	3	9
3	7	3
2	6	5

16		
7	4	5
2	5	9
10	2	4

9		
1	7	1
4	4	1
1	2	6

14		
7	1	6
4	3	7
8	2	4

Verilen sayıdan başlayarak ok yönünde işlemleri yapın ve verilmeyen sayıları bulun.

