

## EĞLENCELİ MATEMATİK - 2

Her katın toplamı apartman numarasını veriyor. Verilmeyen numaraları bulunuz.

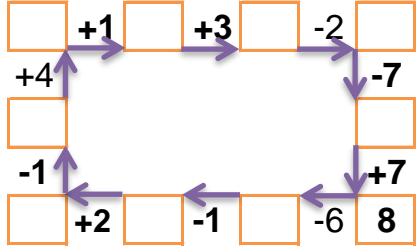
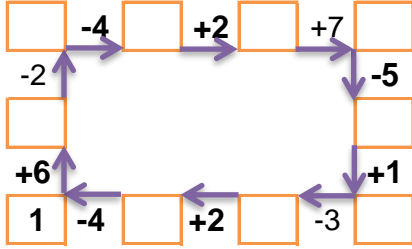
9		
1		2
2	2	
7	1	

12		
1		7
3		4
	5	6

10		
	1	7
1		4
4		3

2		4
3		3
1	1	6

Verilen sayıdan başlayarak ok yönünde işlemleri yapın ve verilmeyen sayıları bulun.



## EĞLENCELİ MATEMATİK - 2

Her katın toplamı apartman numarasını veriyor. Verilmeyen numaraları bulunuz.

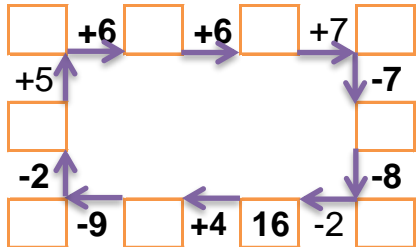
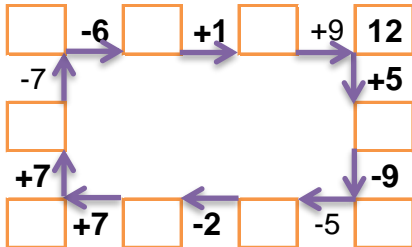
3		7
5	3	
4	7	5

3		1
5	1	5
6	2	

13		
	3	6
3	2	
	4	4

5	2	3
4		1
1		2

Verilen sayıdan başlayarak ok yönünde işlemleri yapın ve verilmeyen sayıları bulun.



## EĞLENCELİ MATEMATİK - 2

Her katın toplamı apartman numarasını veriyor. Verilmeyen numaraları bulunuz.

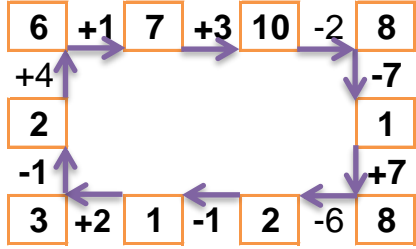
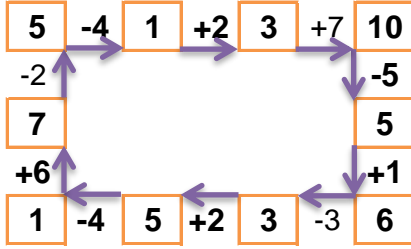
9		
1	6	2
2	2	5
7	1	1

12		
1	4	7
3	5	4
1	5	6

10		
2	1	7
1	5	4
4	3	3

8		
2	2	4
3	2	3
1	1	6

Verilen sayıdan başlayarak ok yönünde işlemleri yapın ve verilmeyen sayıları bulun.



## EĞLENCELİ MATEMATİK - 2

Her katın toplamı apartman numarasını veriyor. Verilmeyen numaraları bulunuz.

16		
3	6	7
5	3	8
4	7	5

11		
3	7	1
5	1	5
6	2	3

13		
4	3	6
3	2	8
5	4	4

10		
5	2	3
4	5	1
1	7	2

Verilen sayıdan başlayarak ok yönünde işlemleri yapın ve verilmeyen sayıları bulun.

