

EĞLENCELİ MATEMATİK - 2

Her katın toplamı apartman numarasını veriyor. Verilmeyen numaraları bulunuz.

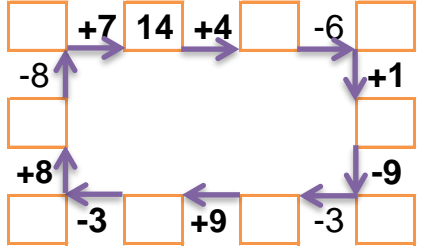
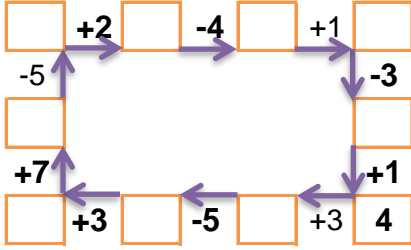
	4	1
5		2
2	2	4

14		
9		4
3	9	
10		1

3	1	7
	5	5
7		2

1	5	
2	1	7
	1	6

Verilen sayıdan başlayarak ok yönünde işlemleri yapın ve verilmeyen sayıları bulun.



EĞLENCELİ MATEMATİK - 2

Her katın toplamı apartman numarasını veriyor. Verilmeyen numaraları bulunuz.

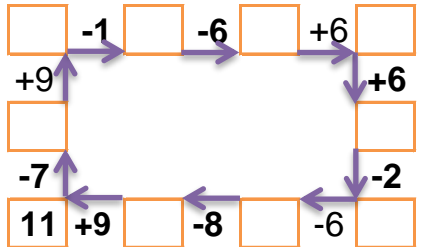
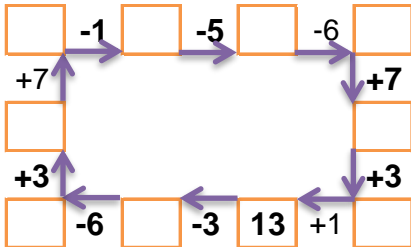
	9	3
3	8	4
	7	2

16		
4		4
7	4	
6	7	

3	9	
10	3	
5	8	1

10		
5		1
3	3	
	2	6

Verilen sayıdan başlayarak ok yönünde işlemleri yapın ve verilmeyen sayıları bulun.



EĞLENCELİ MATEMATİK - 2

Her katın toplamı apartman numarasını veriyor. Verilmeyen numaraları bulunuz.

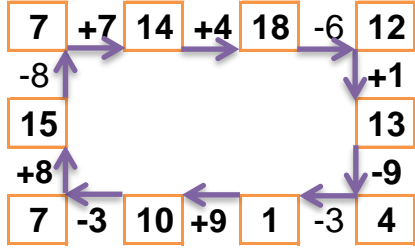
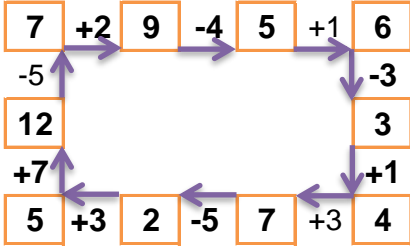
8		
3	4	1
5	1	2
2	2	4

14		
9	1	4
3	9	2
10	3	1

11		
3	1	7
1	5	5
7	2	2

10		
1	5	4
2	1	7
3	1	6

Verilen sayıdan başlayarak ok yönünde işlemleri yapın ve verilmeyen sayıları bulun.



EĞLENCELİ MATEMATİK - 2

Her katın toplamı apartman numarasını veriyor. Verilmeyen numaraları bulunuz.

15		
3	9	3
3	8	4
6	7	2

16		
4	8	4
7	4	5
6	7	3

14		
3	9	2
10	3	1
5	8	1

10		
5	4	1
3	3	4
2	2	6

Verilen sayıdan başlayarak ok yönünde işlemleri yapın ve verilmeyen sayıları bulun.

