

EĞLENCELİ MATEMATİK - 2

Her katın toplamı apartman numarasını veriyor. Verilmeyen numaraları bulunuz.

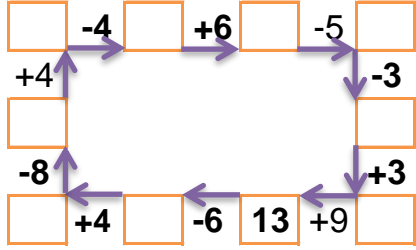
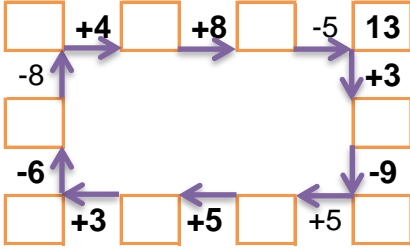
8		
2	4	
6	3	2
3	5	

8		
6	1	
1		2
4		3

10		
10		3
3		2
9	4	1

10		
6		1
2	4	
5		3

Verilen sayıdan başlayarak ok yönünde işlemleri yapın ve verilmeyen sayıları bulun.



EĞLENCELİ MATEMATİK - 2

Her katın toplamı apartman numarasını veriyor. Verilmeyen numaraları bulunuz.

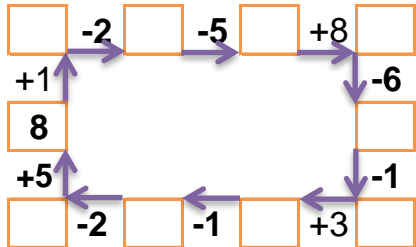
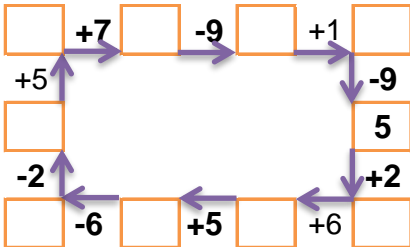
15		
2	3	
	9	2
3	9	

13		
	3	3
	1	9
1	4	

12		
2		9
	5	5
8	2	

10		
	2	6
6		3
	1	2

Verilen sayıdan başlayarak ok yönünde işlemleri yapın ve verilmeyen sayıları bulun.



EĞLENCELİ MATEMATİK - 2

Her katın toplamı apartman numarasını veriyor. Verilmeyen numaraları bulunuz.

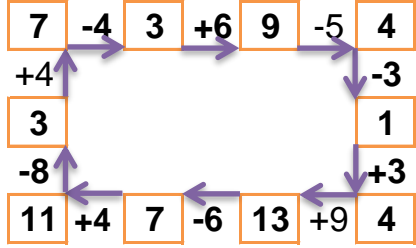
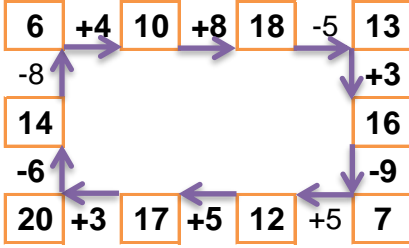
11		
5	2	4
6	3	2
3	5	3

8		
6	1	1
1	5	2
4	1	3

14		
10	1	3
3	9	2
9	4	1

10		
6	3	1
2	4	4
5	2	3

Verilen sayıdan başlayarak ok yönünde işlemleri yapın ve verilmeyen sayıları bulun.



EĞLENCELİ MATEMATİK - 2

Her katın toplamı apartman numarasını veriyor. Verilmeyen numaraları bulunuz.

15		
2	3	10
4	9	2
3	9	3

13		
7	3	3
3	1	9
1	4	8

12		
2	1	9
2	5	5
8	2	2

10		
2	2	6
6	1	3
7	1	2

Verilen sayıdan başlayarak ok yönünde işlemleri yapın ve verilmeyen sayıları bulun.

