

EĞLENCELİ MATEMATİK - 2

Her katın toplamı apartman numarasını veriyor. Verilmeyen numaraları bulunuz.

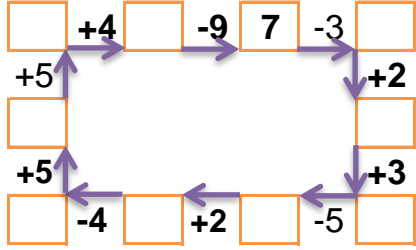
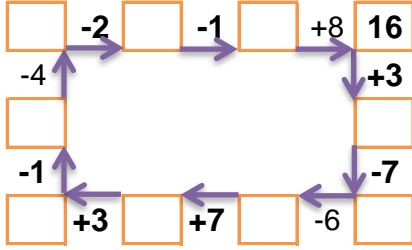
12		
	2	1
5		2
1	4	4

14		
6		7
7	4	
2	2	

16		
6	1	
2	8	
7	1	5

16		
9	3	
8	7	
6	9	

Verilen sayıdan başlayarak ok yönünde işlemleri yapın ve verilmeyen sayıları bulun.



EĞLENCELİ MATEMATİK - 2

Her katın toplamı apartman numarasını veriyor. Verilmeyen numaraları bulunuz.

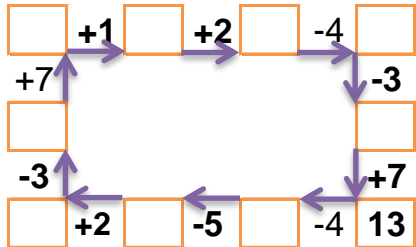
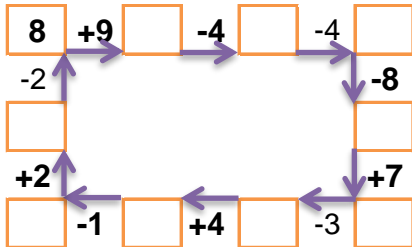
12		
4		4
6	3	
	5	3

14		
5		3
5		4
	7	4

16		
3	7	
7	2	
6	1	8

7		
2		4
3	2	
3		1

Verilen sayıdan başlayarak ok yönünde işlemleri yapın ve verilmeyen sayıları bulun.



EĞLENCELİ MATEMATİK - 2

Her katın toplamı apartman numarasını veriyor. Verilmeyen numaraları bulunuz.

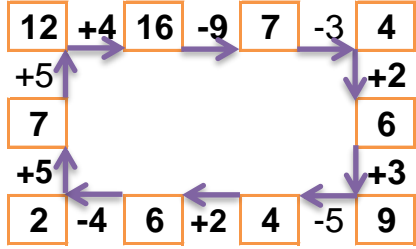
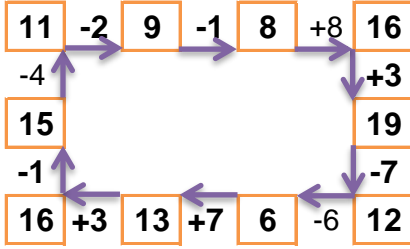
9		
6	2	1
5	2	2
1	4	4

14		
6	1	7
7	4	3
2	2	10

13		
6	1	6
2	8	3
7	1	5

16		
9	3	4
8	7	1
6	9	1

Verilen sayıdan başlayarak ok yönünde işlemleri yapın ve verilmeyen sayıları bulun.



EĞLENCELİ MATEMATİK - 2

Her katın toplamı apartman numarasını veriyor. Verilmeyen numaraları bulunuz.

12		
4	4	4
6	3	3
4	5	3

14		
5	6	3
5	5	4
3	7	4

15		
3	7	5
7	2	6
6	1	8

7		
2	1	4
3	2	2
3	3	1

Verilen sayıdan başlayarak ok yönünde işlemleri yapın ve verilmeyen sayıları bulun.

