

## EĞLENCELİ MATEMATİK - 2

Her katın toplamı apartman numarasını veriyor. Verilmeyen numaraları bulunuz.

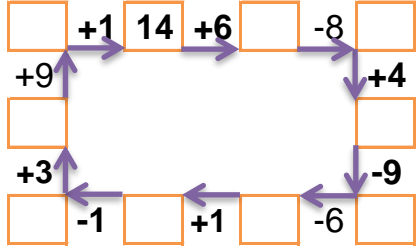
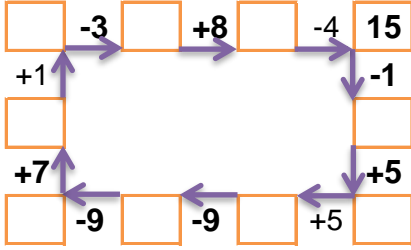
12		
	6	1
3		1
5	4	

13		
4		6
	2	2
5	4	

4		1
1	5	
1	3	3

5		3
2	6	
3	3	3

Verilen sayıdan başlayarak ok yönünde işlemleri yapın ve verilmeyen sayıları bulun.



## EĞLENCELİ MATEMATİK - 2

Her katın toplamı apartman numarasını veriyor. Verilmeyen numaraları bulunuz.

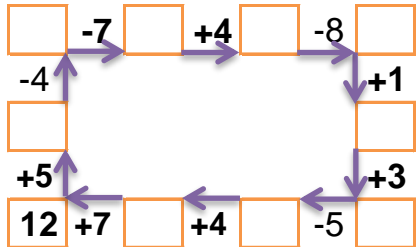
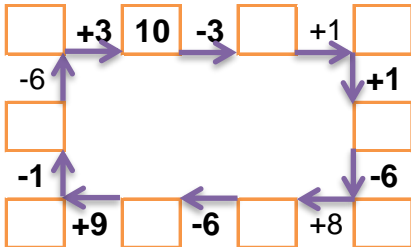
6		
6	7	3
7	7	
	6	9

14		
3		2
1		9
3	10	

1	8	
	6	1
3	1	7

12		
3	1	
2	4	
	5	5

Verilen sayıdan başlayarak ok yönünde işlemleri yapın ve verilmeyen sayıları bulun.



## EĞLENCELİ MATEMATİK - 2

Her katın toplamı apartman numarasını veriyor. Verilmeyen numaraları bulunuz.

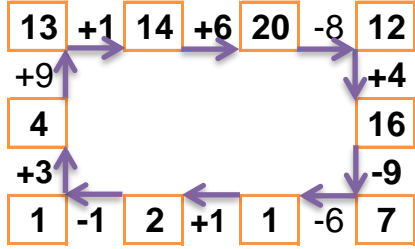
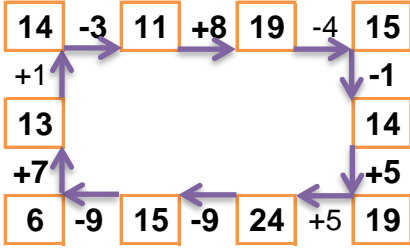
12		
5	6	1
3	8	1
5	4	3

13		
4	3	6
9	2	2
5	4	4

7		
4	2	1
1	5	1
1	3	3

9		
5	1	3
2	6	1
3	3	3

Verilen sayıdan başlayarak ok yönünde işlemleri yapın ve verilmeyen sayıları bulun.



## EĞLENCELİ MATEMATİK - 2

Her katın toplamı apartman numarasını veriyor. Verilmeyen numaraları bulunuz.

16		
6	7	3
7	7	2
1	6	9

14		
3	9	2
1	4	9
3	10	1

11		
1	8	2
4	6	1
3	1	7

12		
3	1	8
2	4	6
2	5	5

Verilen sayıdan başlayarak ok yönünde işlemleri yapın ve verilmeyen sayıları bulun.

