

EĞLENCELİ MATEMATİK - 2

Her katın toplamı apartman numarasını veriyor. Verilmeyen numaraları bulunuz.

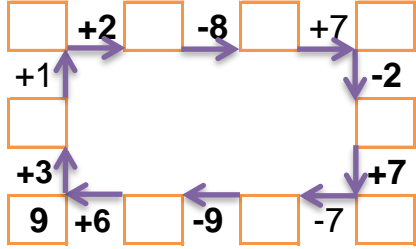
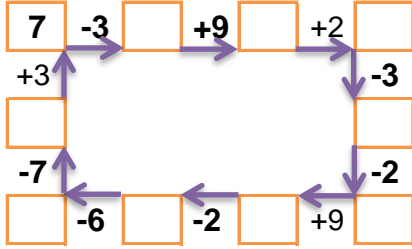
11		
4		1
3		7
1	5	

1	7	5
	1	3
2	4	

10	3	
	9	2
4	3	7

1	8	1
1	7	
	4	4

Verilen sayıdan başlayarak ok yönünde işlemleri yapın ve verilmeyen sayıları bulun.



EĞLENCELİ MATEMATİK - 2

Her katın toplamı apartman numarasını veriyor. Verilmeyen numaraları bulunuz.

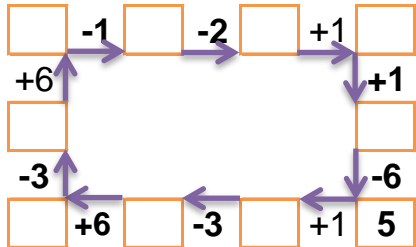
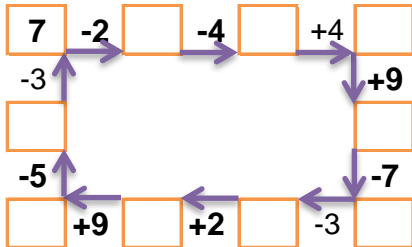
11		
2	3	
	4	2
5	2	1

8	6	
8	5	
3	5	7

5	1	
2		1
1	3	3

9		
1	7	
2	6	
4	2	

Verilen sayıdan başlayarak ok yönünde işlemleri yapın ve verilmeyen sayıları bulun.



EĞLENCELİ MATEMATİK - 2

Her katın toplamı apartman numarasını veriyor. Verilmeyen numaraları bulunuz.

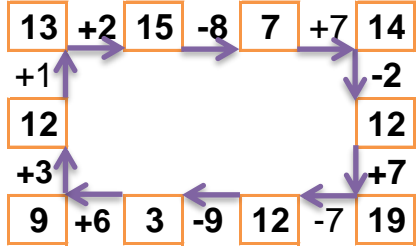
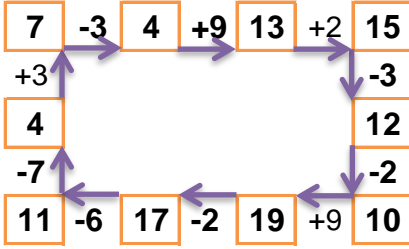
11		
4	6	1
3	1	7
1	5	5

13		
1	7	5
9	1	3
2	4	7

14		
10	3	1
3	9	2
4	3	7

10		
1	8	1
1	7	2
2	4	4

Verilen sayıdan başlayarak ok yönünde işlemleri yapın ve verilmeyen sayıları bulun.



EĞLENCELİ MATEMATİK - 2

Her katın toplamı apartman numarasını veriyor. Verilmeyen numaraları bulunuz.

8		
2	3	3
2	4	2
5	2	1

15		
1	8	6
8	5	2
3	5	7

7		
5	1	1
2	4	1
1	3	3

9		
1	1	7
2	6	1
3	4	2

Verilen sayıdan başlayarak ok yönünde işlemleri yapın ve verilmeyen sayıları bulun.

