

## EĞLENCELİ MATEMATİK - 2

Her katın toplamı apartman numarasını veriyor. Verilmeyen numaraları bulunuz.

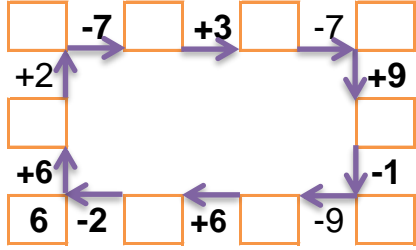
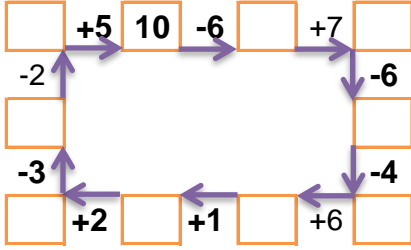
14		
	4	2
5	2	2
6	2	

14		
	3	2
1		8
	9	4

16		
5	1	7
3		1
4	2	

16		
3		8
9		4
5		4

Verilen sayıdan başlayarak ok yönünde işlemleri yapın ve verilmeyen sayıları bulun.



## EĞLENCELİ MATEMATİK - 2

Her katın toplamı apartman numarasını veriyor. Verilmeyen numaraları bulunuz.

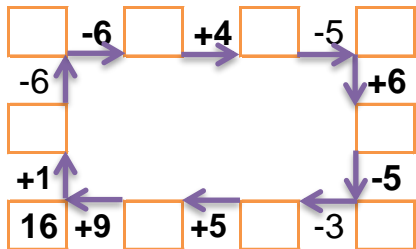
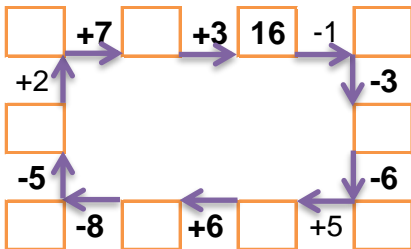
11		
	1	1
2	3	
2		5

11		
6		1
5	2	3
6		2

11		
	4	3
1	1	
2	1	5

14		
2	3	
6		6
	2	5

Verilen sayıdan başlayarak ok yönünde işlemleri yapın ve verilmeyen sayıları bulun.



## EĞLENCELİ MATEMATİK - 2

Her katın toplamı apartman numarasını veriyor. Verilmeyen numaraları bulunuz.

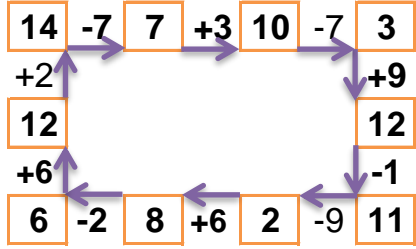
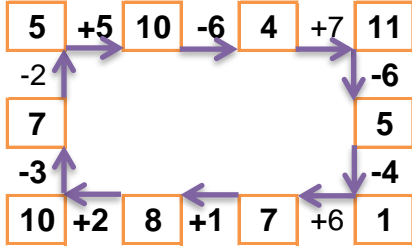
9		
3	4	2
5	2	2
6	2	1

14		
9	3	2
1	5	8
1	9	4

13		
5	1	7
3	9	1
4	2	7

16		
3	5	8
9	3	4
5	7	4

Verilen sayıdan başlayarak ok yönünde işlemleri yapın ve verilmeyen sayıları bulun.



## EĞLENCELİ MATEMATİK - 2

Her katın toplamı apartman numarasını veriyor. Verilmeyen numaraları bulunuz.

11		
9	1	1
2	3	6
2	4	5

10		
6	3	1
5	2	3
6	2	2

8		
1	4	3
1	1	6
2	1	5

14		
2	3	9
6	2	6
7	2	5

Verilen sayıdan başlayarak ok yönünde işlemleri yapın ve verilmeyen sayıları bulun.

