

EĞLENCELİ MATEMATİK - 2

Her katın toplamı apartman numarasını veriyor. Verilmeyen numaraları bulunuz.

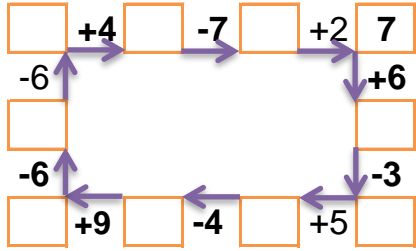
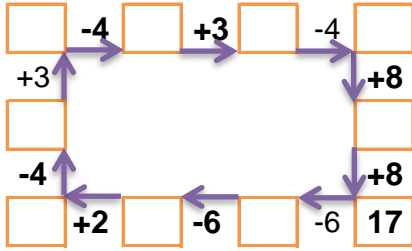
5	5	5
4		7
	3	6

1	1	5
2		3
	1	4

13		
3		5
3		2
	4	1

16		
	3	6
	1	5
	7	2

Verilen sayıdan başlayarak ok yönünde işlemleri yapın ve verilmeyen sayıları bulun.



EĞLENCELİ MATEMATİK - 2

Her katın toplamı apartman numarasını veriyor. Verilmeyen numaraları bulunuz.

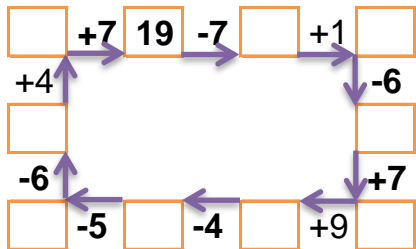
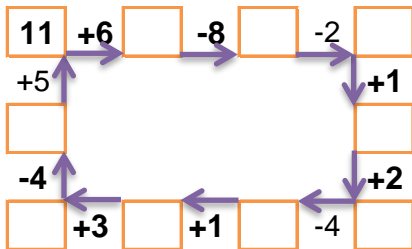
7		6
3		8
2	8	5

1		4
3	1	
2	2	6

	10	3
6	8	
9	1	6

2	1	8
6		4
	9	1

Verilen sayıdan başlayarak ok yönünde işlemleri yapın ve verilmeyen sayıları bulun.



EĞLENCELİ MATEMATİK - 2

Her katın toplamı apartman numarasını veriyor. Verilmeyen numaraları bulunuz.

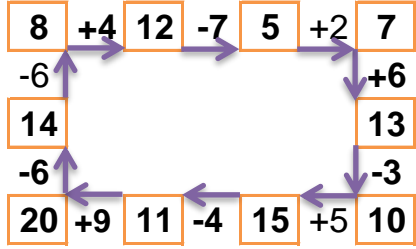
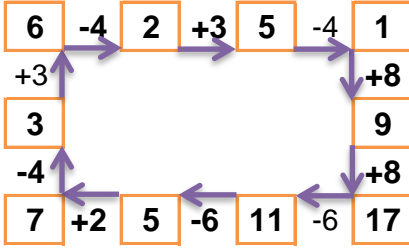
15		
5	5	5
4	4	7
6	3	6

7		
1	1	5
2	2	3
2	1	4

13		
3	5	5
3	8	2
8	4	1

16		
7	3	6
10	1	5
7	7	2

Verilen sayıdan başlayarak ok yönünde işlemleri yapın ve verilmeyen sayıları bulun.



EĞLENCELİ MATEMATİK - 2

Her katın toplamı apartman numarasını veriyor. Verilmeyen numaraları bulunuz.

15		
7	2	6
3	4	8
2	8	5

10		
1	5	4
3	1	6
2	2	6

16		
3	10	3
6	8	2
9	1	6

11		
2	1	8
6	1	4
1	9	1

Verilen sayıdan başlayarak ok yönünde işlemleri yapın ve verilmeyen sayıları bulun.

