

EĞLENCELİ MATEMATİK - 2

Her katın toplamı apartman numarasını veriyor. Verilmeyen numaraları bulunuz.

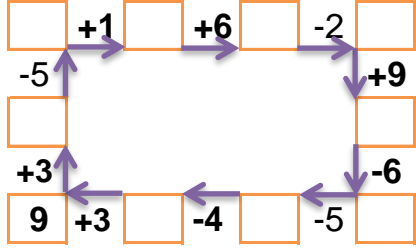
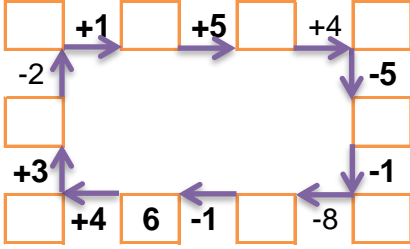
16		
	9	6
	5	9
3	6	

7		5
	10	2
2	2	9

9		
	5	3
2	5	
2	6	

2		3
1	3	3
	4	2

Verilen sayıdan başlayarak ok yönünde işlemleri yapın ve verilmeyen sayıları bulun.



EĞLENCELİ MATEMATİK - 2

Her katın toplamı apartman numarasını veriyor. Verilmeyen numaraları bulunuz.

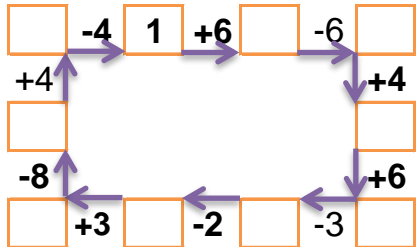
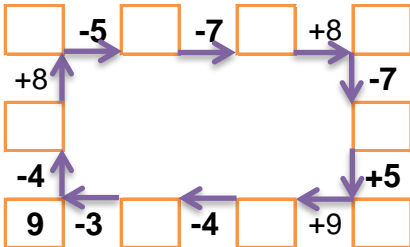
5	4	3
3		1
	1	2

	1	5
	2	3
2	1	4

13		
3	5	
3	8	
8	4	

5	4	
7		6
10	1	5

Verilen sayıdan başlayarak ok yönünde işlemleri yapın ve verilmeyen sayıları bulun.



EĞLENCELİ MATEMATİK - 2

Her katın toplamı apartman numarasını veriyor. Verilmeyen numaraları bulunuz.

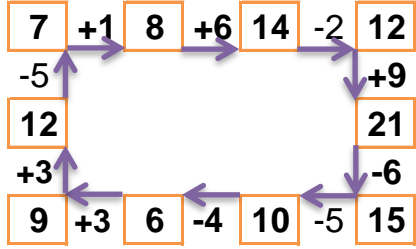
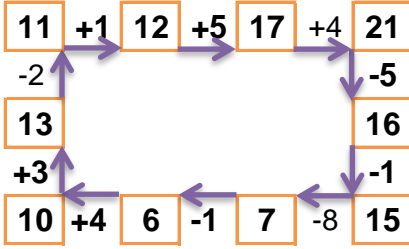
16		
1	9	6
2	5	9
3	6	7

13		
7	1	5
1	10	2
2	2	9

9		
1	5	3
2	5	2
2	6	1

7		
2	2	3
1	3	3
1	4	2

Verilen sayıdan başlayarak ok yönünde işlemleri yapın ve verilmeyen sayıları bulun.



EĞLENCELİ MATEMATİK - 2

Her katın toplamı apartman numarasını veriyor. Verilmeyen numaraları bulunuz.

12		
5	4	3
3	8	1
9	1	2

7		
1	1	5
2	2	3
2	1	4

13		
3	5	5
3	8	2
8	4	1

16		
5	4	7
7	3	6
10	1	5

Verilen sayıdan başlayarak ok yönünde işlemleri yapın ve verilmeyen sayıları bulun.

