

## EĞLENCELİ MATEMATİK - 2

Her katın toplamı apartman numarasını veriyor. Verilmeyen numaraları bulunuz.

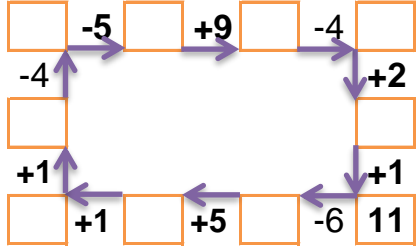
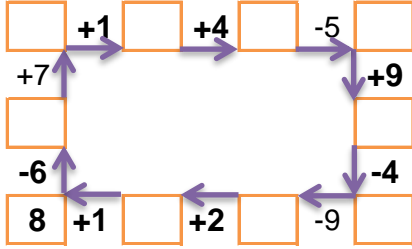
3		8
4	6	
3	4	9

10		
3	1	
4		5
4	2	

1	4	7
	7	2
	5	2

9		
	3	5
1	4	
5		2

Verilen sayıdan başlayarak ok yönünde işlemleri yapın ve verilmeyen sayıları bulun.



## EĞLENCELİ MATEMATİK - 2

Her katın toplamı apartman numarasını veriyor. Verilmeyen numaraları bulunuz.

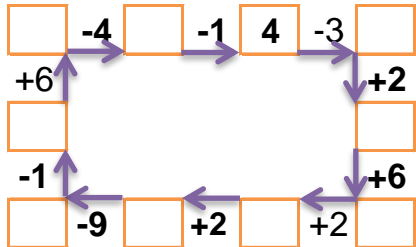
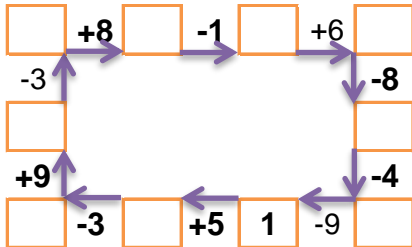
	6	2
1	5	4
	1	6

8		
	3	2
1		1
2		4

	8	4
7	3	
3	9	2

4	5	7
	9	3
	1	5

Verilen sayıdan başlayarak ok yönünde işlemleri yapın ve verilmeyen sayıları bulun.



## EĞLENCELİ MATEMATİK - 2

Her katın toplamı apartman numarasını veriyor. Verilmeyen numaraları bulunuz.

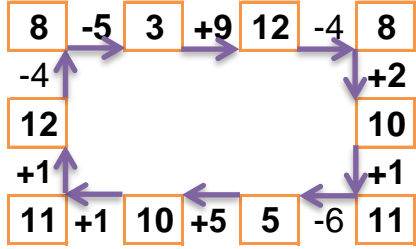
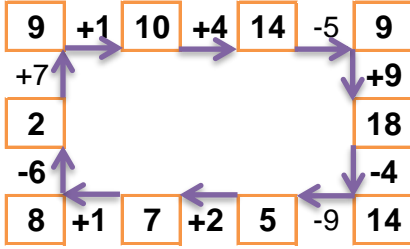
16		
3	5	8
4	6	6
3	4	9

10		
3	1	6
4	1	5
4	2	4

12		
1	4	7
3	7	2
5	5	2

9		
1	3	5
1	4	4
5	2	2

Verilen sayıdan başlayarak ok yönünde işlemleri yapın ve verilmeyen sayıları bulun.



## EĞLENCELİ MATEMATİK - 2

Her katın toplamı apartman numarasını veriyor. Verilmeyen numaraları bulunuz.

10		
2	6	2
1	5	4
3	1	6

8		
3	3	2
1	6	1
2	2	4

14		
2	8	4
7	3	4
3	9	2

16		
4	5	7
4	9	3
10	1	5

Verilen sayıdan başlayarak ok yönünde işlemleri yapın ve verilmeyen sayıları bulun.

