

EĞLENCELİ MATEMATİK - 2

Her katın toplamı apartman numarasını veriyor. Verilmeyen numaraları bulunuz.

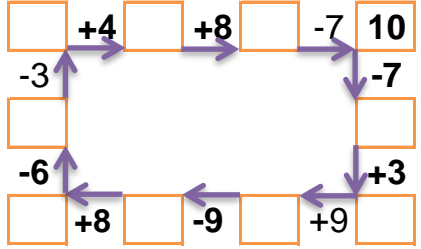
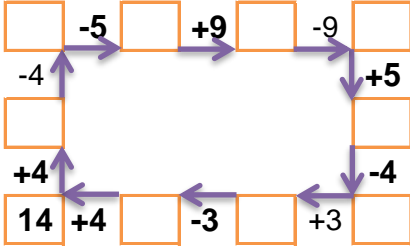
14		
6	1	5
2		9
	3	6

11		
4	3	6
3	2	
1	4	

16		
1	2	
4		3
1	6	1

9		
2	5	
3	3	
1	1	

Verilen sayıdan başlayarak ok yönünde işlemleri yapın ve verilmeyen sayıları bulun.



EĞLENCELİ MATEMATİK - 2

Her katın toplamı apartman numarasını veriyor. Verilmeyen numaraları bulunuz.

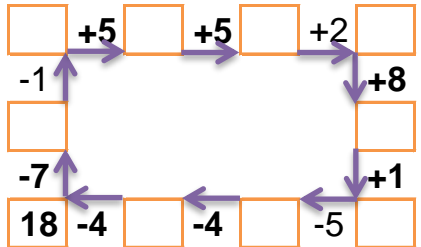
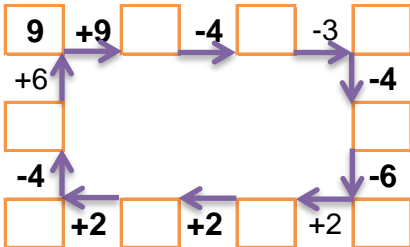
14		
	4	7
6		5
3		3

11		
	4	6
3		3
6	3	

16		
4	2	
2	6	
	7	6

9		
2		3
1	5	1
	4	2

Verilen sayıdan başlayarak ok yönünde işlemleri yapın ve verilmeyen sayıları bulun.



EĞLENCELİ MATEMATİK - 2

Her katın toplamı apartman numarasını veriyor. Verilmeyen numaraları bulunuz.

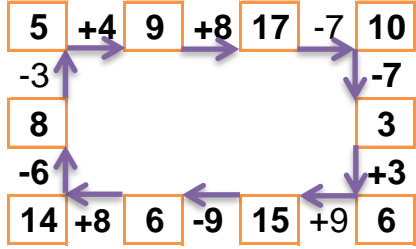
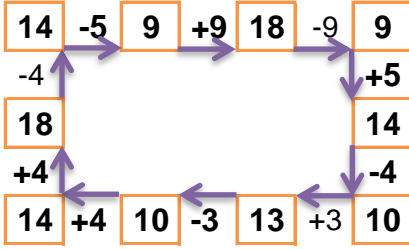
12		
6	1	5
2	1	9
3	3	6

13		
4	3	6
3	2	8
1	4	8

8		
1	2	5
4	1	3
1	6	1

9		
2	5	2
3	3	3
1	1	7

Verilen sayıdan başlayarak ok yönünde işlemleri yapın ve verilmeyen sayıları bulun.



EĞLENCELİ MATEMATİK - 2

Her katın toplamı apartman numarasını veriyor. Verilmeyen numaraları bulunuz.

14		
3	4	7
6	3	5
3	8	3

11		
1	4	6
3	5	3
6	3	2

16		
4	2	10
2	6	8
3	7	6

7		
2	2	3
1	5	1
1	4	2

Verilen sayıdan başlayarak ok yönünde işlemleri yapın ve verilmeyen sayıları bulun.

