

## EĞLENCELİ MATEMATİK - 2

Her katın toplamı apartman numarasını veriyor. Verilmeyen numaraları bulunuz.

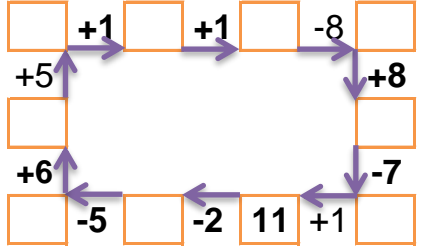
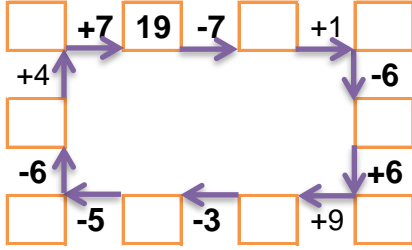
10		
6		1
	4	4
6		2

15		
	4	6
8		4
7		1

9	1	1
	2	4
	6	1

7	1	
2	2	
3	5	5

Verilen sayıdan başlayarak ok yönünde işlemleri yapın ve verilmeyen sayıları bulun.



## EĞLENCELİ MATEMATİK - 2

Her katın toplamı apartman numarasını veriyor. Verilmeyen numaraları bulunuz.

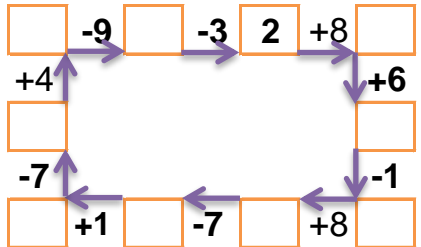
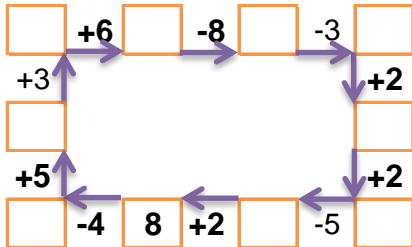
	5	4
6		2
3	3	4

8		
5		2
3		1
	4	2

	1	10
1	5	8
	6	7

12		
2		9
3		7
1		1

Verilen sayıdan başlayarak ok yönünde işlemleri yapın ve verilmeyen sayıları bulun.



## EĞLENCELİ MATEMATİK - 2

Her katın toplamı apartman numarasını veriyor. Verilmeyen numaraları bulunuz.

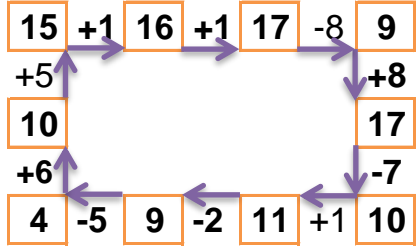
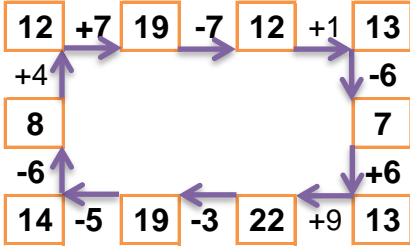
10		
6	3	1
2	4	4
6	2	2

15		
5	4	6
8	3	4
7	7	1

11		
9	1	1
5	2	4
4	6	1

13		
7	1	5
2	2	9
3	5	5

Verilen sayıdan başlayarak ok yönünde işlemleri yapın ve verilmeyen sayıları bulun.



## EĞLENCELİ MATEMATİK - 2

Her katın toplamı apartman numarasını veriyor. Verilmeyen numaraları bulunuz.

10		
1	5	4
6	2	2
3	3	4

8		
5	1	2
3	4	1
2	4	2

14		
3	1	10
1	5	8
1	6	7

12		
2	1	9
3	2	7
1	10	1

Verilen sayıdan başlayarak ok yönünde işlemleri yapın ve verilmeyen sayıları bulun.

