




VAGONLARI DOLDUR

Son vagona verilen sayıdan başlayıp verilen işlemleri yaparak bütün vagonları doldurabilir misin? Her trende son bulduğun vagonu aşağıdan işaretlemelisin.


$$\boxed{5} \xrightarrow{+1} \boxed{} \xrightarrow{+9} \boxed{} \xrightarrow{-10} \boxed{} \xrightarrow{+9} \boxed{} \xrightarrow{-6} \boxed{} \xrightarrow{+9} \boxed{}$$


$$\boxed{4} \xrightarrow{+8} \boxed{} \xrightarrow{-3} \boxed{} \xrightarrow{-1} \boxed{} \xrightarrow{-3} \boxed{} \xrightarrow{+2} \boxed{} \xrightarrow{+5} \boxed{}$$


$$\boxed{11} \xrightarrow{+8} \boxed{} \xrightarrow{-1} \boxed{} \xrightarrow{+4} \boxed{} \xrightarrow{-9} \boxed{} \xrightarrow{-2} \boxed{} \xrightarrow{+7} \boxed{}$$



$$\boxed{5} \xrightarrow{-2} \boxed{} \xrightarrow{-1} \boxed{} \xrightarrow{+10} \boxed{} \xrightarrow{+8} \boxed{} \xrightarrow{-4} \boxed{} \xrightarrow{-7} \boxed{}$$


9 17 12 3 18




VAGONLARI DOLDUR

Son vagona verilen sayıdan başlayıp verilen işlemleri yaparak bütün vagonları doldurabilir misin? Her trende son bulduğun vagonu aşağıdan işaretlemelisin.


$$\boxed{12} \xrightarrow{+1} \boxed{} \xrightarrow{-7} \boxed{} \xrightarrow{+6} \boxed{} \xrightarrow{+9} \boxed{} \xrightarrow{-1} \boxed{} \xrightarrow{+2} \boxed{}$$


$$\boxed{6} \xrightarrow{+8} \boxed{} \xrightarrow{-9} \boxed{} \xrightarrow{-2} \boxed{} \xrightarrow{+4} \boxed{} \xrightarrow{+2} \boxed{} \xrightarrow{+6} \boxed{}$$


$$\boxed{2} \xrightarrow{+5} \boxed{} \xrightarrow{+1} \boxed{} \xrightarrow{+9} \boxed{} \xrightarrow{-4} \boxed{} \xrightarrow{-8} \boxed{} \xrightarrow{+7} \boxed{}$$


$$\boxed{4} \xrightarrow{-1} \boxed{} \xrightarrow{-1} \boxed{} \xrightarrow{+2} \boxed{} \xrightarrow{+10} \boxed{} \xrightarrow{+1} \boxed{} \xrightarrow{+4} \boxed{}$$

19 12 22 18 15



VAGONLARI DOLDUR

Son vagona verilen sayıdan başlayıp verilen işlemleri yaparak bütün vagonları doldurabilir misin? Her trende son bulduğun vagonu aşağıdan işaretlemelisin.

$$\boxed{5} \xrightarrow{+1} \boxed{} \xrightarrow{+9} \boxed{} \xrightarrow{-10} \boxed{} \xrightarrow{+9} \boxed{} \xrightarrow{-6} \boxed{} \xrightarrow{+9} \boxed{} \xrightarrow{} \boxed{} \xrightarrow{} \boxed{} \xrightarrow{} \boxed{} \quad 17$$

$$\boxed{4} \xrightarrow{+8} \boxed{} \xrightarrow{-3} \boxed{} \xrightarrow{-1} \boxed{} \xrightarrow{-3} \boxed{} \xrightarrow{+2} \boxed{} \xrightarrow{+5} \boxed{} \xrightarrow{} \boxed{} \xrightarrow{} \boxed{} \xrightarrow{} \boxed{} \quad 12$$

$$\boxed{11} \xrightarrow{+8} \boxed{} \xrightarrow{-1} \boxed{} \xrightarrow{+4} \boxed{} \xrightarrow{-9} \boxed{} \xrightarrow{-2} \boxed{} \xrightarrow{+7} \boxed{} \xrightarrow{} \boxed{} \xrightarrow{} \boxed{} \xrightarrow{} \boxed{} \quad 18$$

$$\boxed{5} \xrightarrow{-2} \boxed{} \xrightarrow{-1} \boxed{} \xrightarrow{+10} \boxed{} \xrightarrow{+8} \boxed{} \xrightarrow{-4} \boxed{} \xrightarrow{-7} \boxed{} \xrightarrow{} \boxed{} \xrightarrow{} \boxed{} \xrightarrow{} \boxed{} \quad 9$$

9 17 12 3 18

VAGONLARI DOLDUR

Son vagona verilen sayıdan başlayıp verilen işlemleri yaparak bütün vagonları doldurabilir misin? Her trende son bulduğun vagonu aşağıdan işaretlemelisin.

$$\boxed{12} \xrightarrow{+1} \boxed{} \xrightarrow{-7} \boxed{} \xrightarrow{+6} \boxed{} \xrightarrow{+9} \boxed{} \xrightarrow{-1} \boxed{} \xrightarrow{+2} \boxed{} \xrightarrow{} \boxed{} \xrightarrow{} \boxed{} \xrightarrow{} \boxed{} \quad 22$$

$$\boxed{6} \xrightarrow{+8} \boxed{} \xrightarrow{-9} \boxed{} \xrightarrow{-2} \boxed{} \xrightarrow{+4} \boxed{} \xrightarrow{+2} \boxed{} \xrightarrow{+6} \boxed{} \xrightarrow{} \boxed{} \xrightarrow{} \boxed{} \xrightarrow{} \boxed{} \quad 15$$

$$\boxed{2} \xrightarrow{+5} \boxed{} \xrightarrow{+1} \boxed{} \xrightarrow{+9} \boxed{} \xrightarrow{-4} \boxed{} \xrightarrow{-8} \boxed{} \xrightarrow{+7} \boxed{} \xrightarrow{} \boxed{} \xrightarrow{} \boxed{} \xrightarrow{} \boxed{} \quad 12$$

$$\boxed{4} \xrightarrow{-1} \boxed{} \xrightarrow{-1} \boxed{} \xrightarrow{+2} \boxed{} \xrightarrow{+10} \boxed{} \xrightarrow{+1} \boxed{} \xrightarrow{+4} \boxed{} \xrightarrow{} \boxed{} \xrightarrow{} \boxed{} \xrightarrow{} \boxed{} \quad 19$$

19 12 22 18 15