




VAGONLARI DOLDUR

Son vagonda verilen sayıdan başlayıp verilen işlemleri yaparak bütün vagonları doldurabilir misin? Her trende son bulduğun vagonu aşağıdan işaretlemelisin.

$$5 \xrightarrow{+6} \square \xrightarrow{-2} \square \xrightarrow{+9} \square \xrightarrow{+1} \square \xrightarrow{-2} \square \xrightarrow{+1} \square$$


$$9 \xrightarrow{-4} \square \xrightarrow{-3} \square \xrightarrow{+5} \square \xrightarrow{-3} \square \xrightarrow{-1} \square \xrightarrow{-2} \square$$


$$9 \xrightarrow{-1} \square \xrightarrow{-3} \square \xrightarrow{+10} \square \xrightarrow{-5} \square \xrightarrow{-9} \square \xrightarrow{+5} \square$$


$$11 \xrightarrow{+8} \square \xrightarrow{+3} \square \xrightarrow{-8} \square \xrightarrow{-10} \square \xrightarrow{+3} \square \xrightarrow{-5} \square$$


6

1


18


2


19


VAGONLARI DOLDUR

Son vagonda verilen sayıdan başlayıp verilen işlemleri yaparak bütün vagonları doldurabilir misin? Her trende son bulduğun vagonu aşağıdan işaretlemelisin.

$$5 \xrightarrow{+1} \square \xrightarrow{-2} \square \xrightarrow{-1} \square \xrightarrow{+10} \square \xrightarrow{-8} \square \xrightarrow{-3} \square$$


$$5 \xrightarrow{-2} \square \xrightarrow{-2} \square \xrightarrow{+5} \square \xrightarrow{+9} \square \xrightarrow{+3} \square \xrightarrow{+4} \square$$


$$6 \xrightarrow{-3} \square \xrightarrow{+8} \square \xrightarrow{-7} \square \xrightarrow{-1} \square \xrightarrow{+4} \square \xrightarrow{+5} \square$$


$$10 \xrightarrow{-3} \square \xrightarrow{+5} \square \xrightarrow{-6} \square \xrightarrow{+5} \square \xrightarrow{+2} \square \xrightarrow{-7} \square$$


17

6

2

12

22

