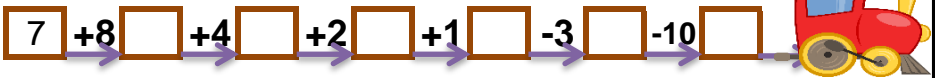
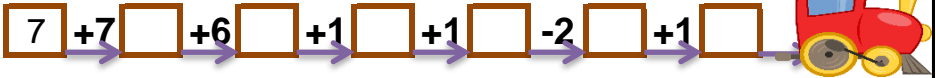
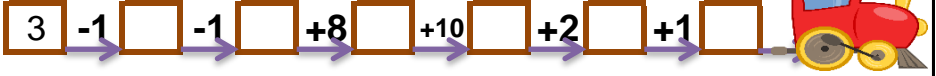


VAGONLARI DOLDUR

Son vagonda verilen sayıdan başlayıp verilen işlemleri yaparak bütün vagonları doldurabilir misin? Her trende son bulduğun vagonu aşağıdan işaretlemelisin.



22

21

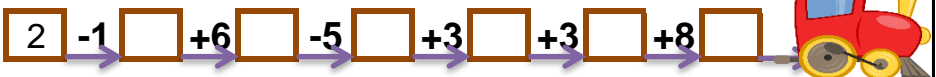
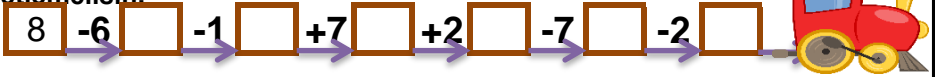
3

9

2

VAGONLARI DOLDUR

Son vagonda verilen sayıdan başlayıp verilen işlemleri yaparak bütün vagonları doldurabilir misin? Her trende son bulduğun vagonu aşağıdan işaretlemelisin.



1

2

16

3

21

VAGONLARI DOLDUR

Son vagona verilen sayıdan başlayıp verilen işlemleri yaparak bütün vagonları doldurabilir misin? Her trende son bulduğun vagonu aşağıdan işaretlemelisin.

$$\boxed{8} \xrightarrow{-6} \boxed{} \xrightarrow{+10} \boxed{} \xrightarrow{+3} \boxed{} \xrightarrow{-4} \boxed{} \xrightarrow{-7} \boxed{} \xrightarrow{-2} \boxed{} \rightarrow 2$$

$$\boxed{3} \xrightarrow{-1} \boxed{} \xrightarrow{-1} \boxed{} \xrightarrow{+8} \boxed{} \xrightarrow{+10} \boxed{} \xrightarrow{+2} \boxed{} \xrightarrow{+1} \boxed{} \rightarrow 22$$

$$\boxed{7} \xrightarrow{+7} \boxed{} \xrightarrow{+6} \boxed{} \xrightarrow{+1} \boxed{} \xrightarrow{+1} \boxed{} \xrightarrow{-2} \boxed{} \xrightarrow{+1} \boxed{} \rightarrow 21$$

$$\boxed{7} \xrightarrow{+8} \boxed{} \xrightarrow{+4} \boxed{} \xrightarrow{+2} \boxed{} \xrightarrow{+1} \boxed{} \xrightarrow{-3} \boxed{} \xrightarrow{-10} \boxed{} \rightarrow 9$$

22 21 3 9 2

VAGONLARI DOLDUR

Son vagona verilen sayıdan başlayıp verilen işlemleri yaparak bütün vagonları doldurabilir misin? Her trende son bulduğun vagonu aşağıdan işaretlemelisin.

$$\boxed{8} \xrightarrow{-6} \boxed{} \xrightarrow{-1} \boxed{} \xrightarrow{+7} \boxed{} \xrightarrow{+2} \boxed{} \xrightarrow{-7} \boxed{} \xrightarrow{-2} \boxed{} \rightarrow 1$$

$$\boxed{11} \xrightarrow{-5} \boxed{} \xrightarrow{-2} \boxed{} \xrightarrow{+5} \boxed{} \xrightarrow{+8} \boxed{} \xrightarrow{+5} \boxed{} \xrightarrow{-1} \boxed{} \rightarrow 21$$

$$\boxed{9} \xrightarrow{+5} \boxed{} \xrightarrow{-8} \boxed{} \xrightarrow{-4} \boxed{} \xrightarrow{+6} \boxed{} \xrightarrow{+3} \boxed{} \xrightarrow{-9} \boxed{} \rightarrow 2$$

$$\boxed{2} \xrightarrow{-1} \boxed{} \xrightarrow{+6} \boxed{} \xrightarrow{-5} \boxed{} \xrightarrow{+3} \boxed{} \xrightarrow{+3} \boxed{} \xrightarrow{+8} \boxed{} \rightarrow 16$$

1 2 16 3 21