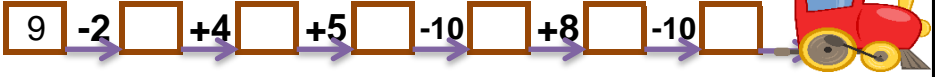
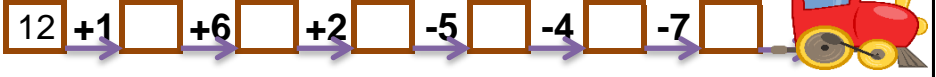
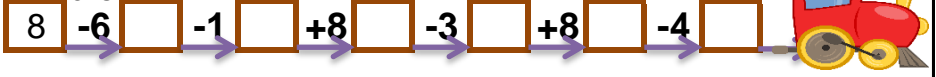


VAGONLARI DOLDUR

Son vagona verilen sayıdan başlayıp verilen işlemleri yaparak bütün vagonları doldurabilir misin? Her trende son bulduğun vagonu aşağıdan işaretlemelisin.



13

9

4

5

10

VAGONLARI DOLDUR

Son vagona verilen sayıdan başlayıp verilen işlemleri yaparak bütün vagonları doldurabilir misin? Her trende son bulduğun vagonu aşağıdan işaretlemelisin.



14

5

2

11

12

VAGONLARI DOLDUR

Son vagona verilen sayıdan başlayıp verilen işlemleri yaparak bütün vagonları doldurabilir misin? Her trende son bulduğun vagonu aşağıdan işaretlemelisin.

$$\boxed{8} \xrightarrow{-6} \boxed{} \xrightarrow{-1} \boxed{} \xrightarrow{+8} \boxed{} \xrightarrow{-3} \boxed{} \xrightarrow{+8} \boxed{} \xrightarrow{-4} \boxed{} \rightarrow 10$$

$$\boxed{12} \xrightarrow{+1} \boxed{} \xrightarrow{+6} \boxed{} \xrightarrow{+2} \boxed{} \xrightarrow{-5} \boxed{} \xrightarrow{-4} \boxed{} \xrightarrow{-7} \boxed{} \rightarrow 5$$

$$\boxed{8} \xrightarrow{-2} \boxed{} \xrightarrow{+9} \boxed{} \xrightarrow{-8} \boxed{} \xrightarrow{-5} \boxed{} \xrightarrow{+1} \boxed{} \xrightarrow{+6} \boxed{} \rightarrow 9$$

$$\boxed{9} \xrightarrow{-2} \boxed{} \xrightarrow{+4} \boxed{} \xrightarrow{+5} \boxed{} \xrightarrow{-10} \boxed{} \xrightarrow{+8} \boxed{} \xrightarrow{-10} \boxed{} \rightarrow 4$$

13 9 4 5 10

VAGONLARI DOLDUR

Son vagona verilen sayıdan başlayıp verilen işlemleri yaparak bütün vagonları doldurabilir misin? Her trende son bulduğun vagonu aşağıdan işaretlemelisin.

$$\boxed{8} \xrightarrow{-4} \boxed{} \xrightarrow{-1} \boxed{} \xrightarrow{+3} \boxed{} \xrightarrow{+3} \boxed{} \xrightarrow{-5} \boxed{} \xrightarrow{-2} \boxed{} \rightarrow 2$$

$$\boxed{6} \xrightarrow{+8} \boxed{} \xrightarrow{-9} \boxed{} \xrightarrow{-2} \boxed{} \xrightarrow{+4} \boxed{} \xrightarrow{+7} \boxed{} \xrightarrow{-2} \boxed{} \rightarrow 12$$

$$\boxed{8} \xrightarrow{-1} \boxed{} \xrightarrow{+7} \boxed{} \xrightarrow{-4} \boxed{} \xrightarrow{+8} \boxed{} \xrightarrow{-4} \boxed{} \xrightarrow{-3} \boxed{} \rightarrow 11$$

$$\boxed{1} \xrightarrow{+6} \boxed{} \xrightarrow{+4} \boxed{} \xrightarrow{+6} \boxed{} \xrightarrow{+4} \boxed{} \xrightarrow{-7} \boxed{} \xrightarrow{-9} \boxed{} \rightarrow 5$$

14 5 2 11 12