


VAGONLARI DOLDUR

Son vagona verilen sayıdan başlayıp verilen işlemleri yaparak bütün vagonları doldurabilir misin? Her trende son bulduğun vagonu aşağıdan işaretlemelisin.

$$9 \xrightarrow{-4} \square \xrightarrow{+2} \square \xrightarrow{+6} \square \xrightarrow{+3} \square \xrightarrow{+3} \square \xrightarrow{-10} \square$$


$$3 \xrightarrow{-2} \square \xrightarrow{+5} \square \xrightarrow{-4} \square \xrightarrow{-1} \square \xrightarrow{+8} \square \xrightarrow{+6} \square$$


$$5 \xrightarrow{+9} \square \xrightarrow{-10} \square \xrightarrow{-1} \square \xrightarrow{-1} \square \xrightarrow{-1} \square \xrightarrow{+2} \square$$


$$8 \xrightarrow{+1} \square \xrightarrow{-3} \square \xrightarrow{-4} \square \xrightarrow{+9} \square \xrightarrow{+7} \square \xrightarrow{+3} \square$$


15

9

21


19


3

VAGONLARI DOLDUR

Son vagona verilen sayıdan başlayıp verilen işlemleri yaparak bütün vagonları doldurabilir misin? Her trende son bulduğun vagonu aşağıdan işaretlemelisin.

$$2 \xrightarrow{+9} \square \xrightarrow{+5} \square \xrightarrow{-9} \square \xrightarrow{+4} \square \xrightarrow{-1} \square \xrightarrow{-7} \square$$


$$4 \xrightarrow{+8} \square \xrightarrow{+4} \square \xrightarrow{+1} \square \xrightarrow{-10} \square \xrightarrow{+5} \square \xrightarrow{-2} \square$$


$$5 \xrightarrow{-3} \square \xrightarrow{-1} \square \xrightarrow{+3} \square \xrightarrow{+9} \square \xrightarrow{+6} \square \xrightarrow{-1} \square$$


$$3 \xrightarrow{+7} \square \xrightarrow{-6} \square \xrightarrow{-1} \square \xrightarrow{+7} \square \xrightarrow{+9} \square \xrightarrow{-5} \square$$


3

10

14

20

18

VAGONLARI DOLDUR

Son vagonda verilen sayıdan başlayıp verilen işlemleri yaparak bütün vagonları doldurabilir misin? Her trende son bulduğun vagonu aşağıdan işaretlemelisin.

$$\boxed{9} \xrightarrow{-4} \boxed{} \xrightarrow{+2} \boxed{} \xrightarrow{+6} \boxed{} \xrightarrow{+3} \boxed{} \xrightarrow{+3} \boxed{} \xrightarrow{-10} \boxed{} \rightarrow 9$$

$$\boxed{3} \xrightarrow{-2} \boxed{} \xrightarrow{+5} \boxed{} \xrightarrow{-4} \boxed{} \xrightarrow{-1} \boxed{} \xrightarrow{+8} \boxed{} \xrightarrow{+6} \boxed{} \rightarrow 15$$

$$\boxed{5} \xrightarrow{+9} \boxed{} \xrightarrow{-10} \boxed{} \xrightarrow{-1} \boxed{} \xrightarrow{-1} \boxed{} \xrightarrow{-1} \boxed{} \xrightarrow{+2} \boxed{} \rightarrow 3$$

$$\boxed{8} \xrightarrow{+1} \boxed{} \xrightarrow{-3} \boxed{} \xrightarrow{-4} \boxed{} \xrightarrow{+9} \boxed{} \xrightarrow{+7} \boxed{} \xrightarrow{+3} \boxed{} \rightarrow 21$$

15 9 21 19 3

VAGONLARI DOLDUR

Son vagonda verilen sayıdan başlayıp verilen işlemleri yaparak bütün vagonları doldurabilir misin? Her trende son bulduğun vagonu aşağıdan işaretlemelisin.

$$\boxed{2} \xrightarrow{+9} \boxed{} \xrightarrow{+5} \boxed{} \xrightarrow{-9} \boxed{} \xrightarrow{+4} \boxed{} \xrightarrow{-1} \boxed{} \xrightarrow{-7} \boxed{} \rightarrow 3$$

$$\boxed{4} \xrightarrow{+8} \boxed{} \xrightarrow{+4} \boxed{} \xrightarrow{+1} \boxed{} \xrightarrow{-10} \boxed{} \xrightarrow{+5} \boxed{} \xrightarrow{-2} \boxed{} \rightarrow 10$$

$$\boxed{5} \xrightarrow{-3} \boxed{} \xrightarrow{-1} \boxed{} \xrightarrow{+3} \boxed{} \xrightarrow{+9} \boxed{} \xrightarrow{+6} \boxed{} \xrightarrow{-1} \boxed{} \rightarrow 18$$

$$\boxed{3} \xrightarrow{+7} \boxed{} \xrightarrow{-6} \boxed{} \xrightarrow{-1} \boxed{} \xrightarrow{+7} \boxed{} \xrightarrow{+9} \boxed{} \xrightarrow{-5} \boxed{} \rightarrow 14$$

3 10 14 20 18