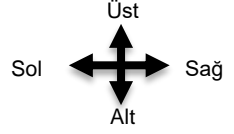



# UZAMSAL İLİŞKİLER

İfadeleri, tablodaki şekillerin konumlarına göre tamamlayın.



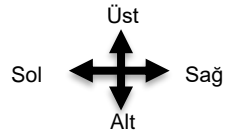
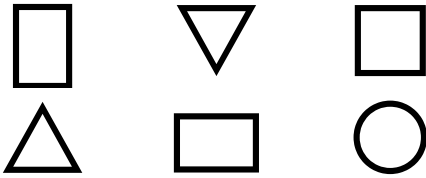
△ şeklinin üstünde ..... vardır.

▽ şeklinin hemen sağında ..... vardır.

○ şeklinin altında ..... vardır.

# UZAMSAL İLİŞKİLER

İfadeleri, tablodaki şekillerin konumlarına göre tamamlayın.



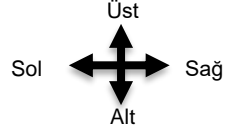
○ şeklinin üstünde ..... vardır.

□ şeklinin altında ..... vardır.

△ ile ○ arasında ..... vardır.

# UZAMSAL İLİŞKİLER

İfadeleri, tablodaki şekillerin konumlarına göre tamamlayın.



△ şeklinin üstünde ..... vardır.



▽ şeklinin hemen sağında ..... vardır.

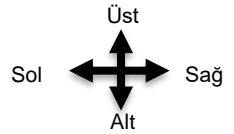


○ şeklinin altında ..... vardır.



# UZAMSAL İLİŞKİLER

İfadeleri, tablodaki şekillerin konumlarına göre tamamlayın.



○ şeklinin üstünde ..... vardır.



□ şeklinin altında ..... vardır.



△ ile ○ arasında ..... vardır.

