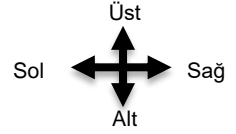


UZAMSAL İLİŞKİLER

İfadeleri, tablodaki şekillerin konumlarına göre tamamlayın.



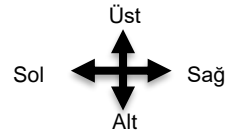
○ şeklinin solunda vardır.

▽ şeklinin üstünde vardır.

□ şeklinin hemen sağında vardır.

UZAMSAL İLİŞKİLER

İfadeleri, tablodaki şekillerin konumlarına göre tamamlayın.



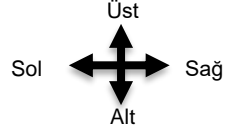
○ ile ▽ arasında vardır.

▽ şeklinin altında vardır.

□ şeklinin solunda vardır.

UZAMSAL İLİŞKİLER

İfadeleri, tablodaki şekillerin konumlarına göre tamamlayın.



○ şeklinin solunda vardır.



▽ şeklinin üstünde vardır.

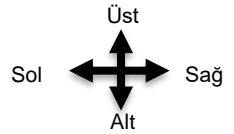


□ şeklinin hemen sağında vardır.



UZAMSAL İLİŞKİLER

İfadeleri, tablodaki şekillerin konumlarına göre tamamlayın.



○ ile ▽ arasında vardır.



▽ şeklinin altında vardır.



□ şeklinin solunda vardır.

