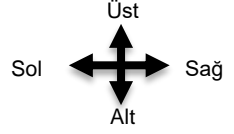
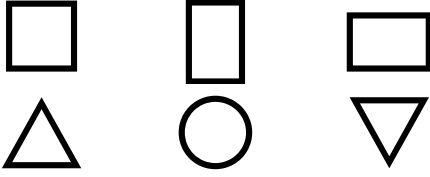


UZAMSAL İLİŞKİLER

İfadeleri, tablodaki şekillerin konumlarına göre tamamlayın.



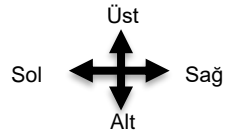
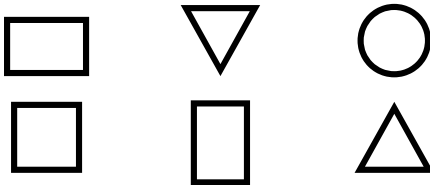
○ şeklinin sağında vardır.

△ ile ▽ arasında vardır.

□ şeklinin altında vardır.

UZAMSAL İLİŞKİLER

İfadeleri, tablodaki şekillerin konumlarına göre tamamlayın.



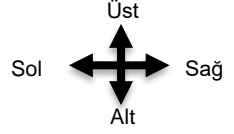
○ ile □ arasında vardır.

△ şeklinin üstünde vardır.

▽ şeklinin solunda vardır.

UZAMSAL İLİŞKİLER

İfadeleri, tablodaki şekillerin konumlarına göre tamamlayın.



○ şeklinin sağında vardır.



△ ile ▽ arasında vardır.

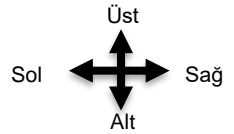
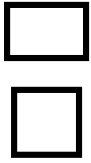


□ şeklinin altında vardır.



UZAMSAL İLİŞKİLER

İfadeleri, tablodaki şekillerin konumlarına göre tamamlayın.



○ ile □ arasında vardır.



△ şeklinin üstünde vardır.



▽ şeklinin solunda vardır.

