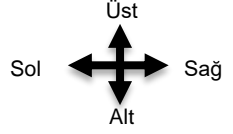


# UZAMSAL İLİŞKİLER

İfadeleri, tablodaki şekillerin konumlarına göre tamamlayın.



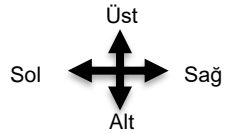
□ şeklinin sağında ..... vardır.

□ şeklinin hemen solunda ..... vardır.

□ şeklinin üstünde ..... vardır.

# UZAMSAL İLİŞKİLER

İfadeleri, tablodaki şekillerin konumlarına göre tamamlayın.



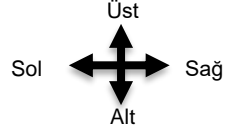
□ şeklinin üstünde ..... vardır.

△ şeklinin sağında ..... vardır.

▽ ile ○ arasında ..... vardır.

# UZAMSAL İLİŞKİLER

İfadeleri, tablodaki şekillerin konumlarına göre tamamlayın.



□ şeklinin sağında ..... vardır.



□ şeklinin hemen solunda ..... vardır.

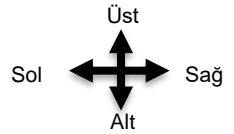


□ şeklinin üstünde ..... vardır.



# UZAMSAL İLİŞKİLER

İfadeleri, tablodaki şekillerin konumlarına göre tamamlayın.



□ şeklinin üstünde ..... vardır.



△ şeklinin sağında ..... vardır.



▽ ile ○ arasında ..... vardır.

