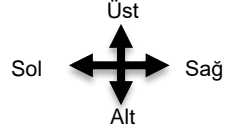


UZAMSAL İLİŞKİLER

İfadeleri, tablodaki şekillerin konumlarına göre tamamlayın.



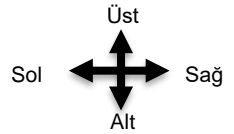
△ ile ○ arasında vardır.

□ şeklinin solunda vardır.

□ şeklinin hemen solunda vardır.

UZAMSAL İLİŞKİLER

İfadeleri, tablodaki şekillerin konumlarına göre tamamlayın.



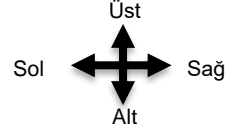
□ ile ○ arasında vardır.

□ şeklinin altında vardır.

△ şeklinin hemen solunda vardır.

UZAMSAL İLİŞKİLER

İfadeleri, tablodaki şekillerin konumlarına göre tamamlayın.



△ ile ○ arasında vardır.



□ şeklinin solunda vardır.

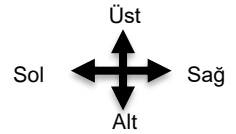


□ şeklinin hemen solunda vardır.



UZAMSAL İLİŞKİLER

İfadeleri, tablodaki şekillerin konumlarına göre tamamlayın.



□ ile ○ arasında vardır.



□ şeklinin altında vardır.



△ şeklinin hemen solunda vardır.

