


... BENDE KİMDE? (Çarpma)

Her kutu, kendinde olan cevabı üstte aradığı cevabı altta gösteriyor. Oyun baştaki soru ile başlıyor. O sorunun cevabı kimde ise onun aradığı cevaptan devam ederek sona ulaşılır. Sona kalan kutunun aradığı cevabı noktalı yere yazmalıyız.

9 x 8 kimde?


54	
8 x 6 kimde?	

70	
6 x 7 kimde?	


35	
5 x 8 kimde?	

49	
4 x 7 kimde?	

48	
9 x 10 kimde?	

90	
7 x 7 kimde?	

40	
5 x 6 kimde?	

24	
9 x 7 kimde?	

63	
7 x 5 kimde?	

72	
6 x 9 kimde?	

30	
10 x 7 kimde?	

28	
4 x 6 kimde?	

..... bende

... BENDE KİMDE? (Çarpma)


Her kutu, kendinde olan cevabı üstte aradığı cevabı altta gösteriyor. Oyun baştaki soru ile başlıyor. O sorunun cevabı kimde ise onun aradığı cevaptan devam ederek sona ulaşılır. Sona kalan kutunun aradığı cevabı noktalı yere yazmalıyız.

6 x 3 kimde?

18	
5 x 9 kimde?	

21	
8 x 9 kimde?	

81	
7 x 3 kimde?	

24	
2 x 7 kimde?	

72	
10 x 8 kimde?	

80	
8 x 8 kimde?	

90	
6 x 4 kimde?	

45	
5 x 6 kimde?	

30	
6 x 9 kimde?	

14	
9 x 9 kimde?	

16	
10 x 9 kimde?	

54	
8 x 2 kimde?	


..... bende

... BENDE KİMDE? (Çarpma)

Her kutu, kendinde olan cevabı üstte aradığı cevabı altta gösteriyor. Oyun baştaki soru ile başlıyor. O sorunun cevabı kimde ise onun aradığı cevaptan devam ederek sona ulaşılır. Sona kalan kutunun aradığı cevabı noktalı yere yazmalıyız.

9 x 8 kimde?

54	
8 x 6 kimde?	

70	
6 x 7 kimde?	


35	
5 x 8 kimde?	

49	
4 x 7 kimde?	

48	
9 x 10 kimde?	

90	
7 x 7 kimde?	

40	
5 x 6 kimde?	

24	
9 x 7 kimde?	

63	
7 x 5 kimde?	

72	
6 x 9 kimde?	

30	
10 x 7 kimde?	


28	
4 x 6 kimde?	


42 bende

... BENDE KİMDE? (Çarpma)


Her kutu, kendinde olan cevabı üstte aradığı cevabı altta gösteriyor. Oyun baştaki soru ile başlıyor. O sorunun cevabı kimde ise onun aradığı cevaptan devam ederek sona ulaşılır. Sona kalan kutunun aradığı cevabı noktalı yere yazmalıyız.


6 x 3 kimde?

18	
5 x 9 kimde?	

21	
8 x 9 kimde?	

81	
7 x 3 kimde?	

24	
2 x 7 kimde?	

72	
10 x 8 kimde?	

80	
8 x 8 kimde?	

90	
6 x 4 kimde?	

45	
5 x 6 kimde?	

30	
6 x 9 kimde?	

14	
9 x 9 kimde?	

16	
10 x 9 kimde?	

54	
8 x 2 kimde?	

64 bende