


... BENDE KİMDE? (Çarpma)

Her kutu, kendinde olan cevabı üstte aradığı cevabı altta gösteriyor. Oyun baştaki soru ile başlıyor. O sorunun cevabı kimde ise onun aradığı cevaptan devam ederek sona ulaşılır. Sona kalan kutunun aradığı cevabı noktalı yere yazmalıyız.

6 x 5 kimde?

90	
9 x 9 kimde?	

32	
7 x 7 kimde?	

20	
5 x 8 kimde?	

28	
9 x 10 kimde?	

18	
5 x 3 kimde?	

42	
5 x 4 kimde?	

81	
3 x 8 kimde?	

15	
6 x 7 kimde?	

16	
8 x 4 kimde?	

40	
7 x 4 kimde?	

30	
3 x 6 kimde?	

24	
8 x 2 kimde?	

..... bende

... BENDE KİMDE? (Çarpma)


Her kutu, kendinde olan cevabı üstte aradığı cevabı altta gösteriyor. Oyun baştaki soru ile başlıyor. O sorunun cevabı kimde ise onun aradığı cevaptan devam ederek sona ulaşılır. Sona kalan kutunun aradığı cevabı noktalı yere yazmalıyız.

4 x 7 kimde?

35	
7 x 10 kimde?	

48	
4 x 10 kimde?	


70	
10 x 5 kimde?	

49	
6 x 9 kimde?	

100	
7 x 7 kimde?	

14	
3 x 9 kimde?	

18	
8 x 9 kimde?	

72	
5 x 7 kimde?	

27	
6 x 3 kimde?	

50	
8 x 6 kimde?	

40	
10 x 10 kimde?	

28	
7 x 2 kimde?	

..... bende


.... Bende Kimde Çarpma 12

... BENDE KİMDE? (Çarpma)

Her kutu, kendinde olan cevabı üstte aradığı cevabı altta gösteriyor. Oyun baştaki soru ile başlıyor. O sorunun cevabı kimde ise onun aradığı cevaptan devam ederek sona ulaşılır. Sona kalan kutunun aradığı cevabı noktalı yere yazmalıyız.

6 x 5 kimde?

90	
9 x 9 kimde?	

32	
7 x 7 kimde?	


20	
5 x 8 kimde?	

28	
9 x 10 kimde?	

18	
5 x 3 kimde?	

42	
5 x 4 kimde?	

81	
3 x 8 kimde?	

15	
6 x 7 kimde?	

16	
8 x 4 kimde?	

40	
7 x 4 kimde?	

30	
3 x 6 kimde?	

24	
8 x 2 kimde?	

49 bende

... BENDE KİMDE? (Çarpma)

Her kutu, kendinde olan cevabı üstte aradığı cevabı altta gösteriyor. Oyun baştaki soru ile başlıyor. O sorunun cevabı kimde ise onun aradığı cevaptan devam ederek sona ulaşılır. Sona kalan kutunun aradığı cevabı noktalı yere yazmalıyız.

4 x 7 kimde?

35	
7 x 10 kimde?	

48	
4 x 10 kimde?	


70	
10 x 5 kimde?	

49	
6 x 9 kimde?	

100	
7 x 7 kimde?	

14	
3 x 9 kimde?	

18	
8 x 9 kimde?	

72	
5 x 7 kimde?	

27	
6 x 3 kimde?	

50	
8 x 6 kimde?	

40	
10 x 10 kimde?	

28	
7 x 2 kimde?	

54 bende