

... BENDE KİMDE? (Çarpma)

Her kutu, kendinde olan cevabı üstte aradığı cevabı altta gösteriyor. Oyun baştaki soru ile başlıyor. O sorunun cevabı kimde ise onun aradığı cevaptan devam ederek sona ulaşılır. Sona kalan kutunun aradığı cevabı noktalı yere yazmalıyız.

7 x 6 kimde?

32	
6 x 4 kimde?	

63	
6 x 5 kimde?	


30	
4 x 10 kimde?	

40	
6 x 10 kimde?	

64	
9 x 6 kimde?	

15	
8 x 7 kimde?	

56	
4 x 9 kimde?	

24	
7 x 9 kimde?	

60	
3 x 5 kimde?	

36	
3 x 6 kimde?	

42	
4 x 8 kimde?	


18	
8 x 8 kimde?	

..... bende

... BENDE KİMDE? (Çarpma)

Her kutu, kendinde olan cevabı üstte aradığı cevabı altta gösteriyor. Oyun baştaki soru ile başlıyor. O sorunun cevabı kimde ise onun aradığı cevaptan devam ederek sona ulaşılır. Sona kalan kutunun aradığı cevabı noktalı yere yazmalıyız.

8 x 5 kimde?

40	
8 x 2 kimde?	

30	
9 x 2 kimde?	

20	
6 x 5 kimde?	

80	
4 x 5 kimde?	

56	
10 x 8 kimde?	

32	
5 x 5 kimde?	

45	
8 x 4 kimde?	

12	
7 x 3 kimde?	

18	
6 x 6 kimde?	

36	
5 x 9 kimde?	

21	
7 x 8 kimde?	

16	
2 x 6 kimde?	

..... bende

... BENDE KİMDE? (Çarpma)

Her kutu, kendinde olan cevabı üstte aradığı cevabı altta gösteriyor. Oyun baştaki soru ile başlıyor. O sorunun cevabı kimde ise onun aradığı cevaptan devam ederek sona ulaşılır. Sona kalan kutunun aradığı cevabı noktalı yere yazmalıyız.

7 x 6 kimde?

32	
6 x 4 kimde?	

63	
6 x 5 kimde?	


30	
4 x 10 kimde?	

40	
6 x 10 kimde?	

64	
9 x 6 kimde?	

15	
8 x 7 kimde?	

56	
4 x 9 kimde?	

24	
7 x 9 kimde?	

60	
3 x 5 kimde?	

36	
3 x 6 kimde?	

42	
4 x 8 kimde?	


18	
8 x 8 kimde?	

54 bende

... BENDE KİMDE? (Çarpma)

Her kutu, kendinde olan cevabı üstte aradığı cevabı altta gösteriyor. Oyun baştaki soru ile başlıyor. O sorunun cevabı kimde ise onun aradığı cevaptan devam ederek sona ulaşılır. Sona kalan kutunun aradığı cevabı noktalı yere yazmalıyız.

8 x 5 kimde?

40	
8 x 2 kimde?	

30	
9 x 2 kimde?	

20	
6 x 5 kimde?	

80	
4 x 5 kimde?	

56	
10 x 8 kimde?	

32	
5 x 5 kimde?	

45	
8 x 4 kimde?	

12	
7 x 3 kimde?	

18	
6 x 6 kimde?	

36	
5 x 9 kimde?	

21	
7 x 8 kimde?	

16	
2 x 6 kimde?	

25 bende