


## ... BENDE .... KİMDE? (Çarpma)

Her kutu, kendinde olan cevabı üstte aradığı cevabı altta gösteriyor. Oyun baştaki soru ile başlıyor. O sorunun cevabı kimde ise onun aradığı cevaptan devam ederek sona ulaşılır. Sona kalan kutunun aradığı cevabı noktalı yere yazmalıyız.

9 x 8 kimde?

35	
4 x 7 kimde?	

64	
6 x 3 kimde?	

72	
6 x 10 kimde?	

18	
8 x 2 kimde?	

28	
5 x 5 kimde?	

60	
8 x 6 kimde?	

90	
4 x 8 kimde?	

80	
10 x 9 kimde?	

16	
5 x 7 kimde?	

25	
10 x 8 kimde?	

48	
8 x 8 kimde?	

32	
4 x 5 kimde?	

..... bende

## ... BENDE .... KİMDE? (Çarpma)

Her kutu, kendinde olan cevabı üstte aradığı cevabı altta gösteriyor. Oyun baştaki soru ile başlıyor. O sorunun cevabı kimde ise onun aradığı cevaptan devam ederek sona ulaşılır. Sona kalan kutunun aradığı cevabı noktalı yere yazmalıyız.

9 x 7 kimde?


40	
8 x 2 kimde?	

60	
5 x 4 kimde?	


30	
10 x 8 kimde?	

80	
4 x 7 kimde?	


14	
9 x 2 kimde?	

48	
8 x 5 kimde?	

18	
10 x 10 kimde?	

20	
9 x 3 kimde?	

63	
5 x 6 kimde?	

27	
8 x 6 kimde?	

28	
7 x 2 kimde?	

100	
6 x 10 kimde?	

..... bende


## ... BENDE .... KİMDE? (Çarpma)

Her kutu, kendinde olan cevabı üstte aradığı cevabı altta gösteriyor. Oyun baştaki soru ile başlıyor. O sorunun cevabı kimde ise onun aradığı cevaptan devam ederek sona ulaşılır. Sona kalan kutunun aradığı cevabı noktalı yere yazmalıyız.

9 x 8 kimde?

35	
4 x 7 kimde?	

64	
6 x 3 kimde?	

72	
6 x 10 kimde?	

18	
8 x 2 kimde?	

28	
5 x 5 kimde?	

60	
8 x 6 kimde?	

90	
4 x 8 kimde?	

80	
10 x 9 kimde?	

16	
5 x 7 kimde?	

25	
10 x 8 kimde?	

48	
8 x 8 kimde?	

32	
4 x 5 kimde?	

20 bende

## ... BENDE .... KİMDE? (Çarpma)

Her kutu, kendinde olan cevabı üstte aradığı cevabı altta gösteriyor. Oyun baştaki soru ile başlıyor. O sorunun cevabı kimde ise onun aradığı cevaptan devam ederek sona ulaşılır. Sona kalan kutunun aradığı cevabı noktalı yere yazmalıyız.

9 x 7 kimde?

40	
8 x 2 kimde?	

60	
5 x 4 kimde?	

30	
10 x 8 kimde?	

80	
4 x 7 kimde?	


14	
9 x 2 kimde?	

48	
8 x 5 kimde?	

18	
10 x 10 kimde?	

20	
9 x 3 kimde?	

63	
5 x 6 kimde?	

27	
8 x 6 kimde?	

28	
7 x 2 kimde?	

100	
6 x 10 kimde?	

16 bende

.... Bende .... Kimde Çarpma 14