


... BENDE KİMDE? (Çarpma)

Her kutu, kendinde olan cevabı üstte aradığı cevabı altta gösteriyor. Oyun baştaki soru ile başlıyor. O sorunun cevabı kimde ise onun aradığı cevaptan devam ederek sona ulaşılır. Sona kalan kutunun aradığı cevabı noktalı yere yazmalıyız.

4 x 6 kimde?

60	
9 x 7 kimde?	

56	
8 x 10 kimde?	


80	
10 x 3 kimde?	

16	
9 x 10 kimde?	

20	
7 x 8 kimde?	

30	
7 x 7 kimde?	

18	
8 x 2 kimde?	

49	
10 x 6 kimde?	

24	
10 x 7 kimde?	

90	
5 x 4 kimde?	

70	
3 x 7 kimde?	

21	
9 x 2 kimde?	


..... bende

... BENDE KİMDE? (Çarpma)

Her kutu, kendinde olan cevabı üstte aradığı cevabı altta gösteriyor. Oyun baştaki soru ile başlıyor. O sorunun cevabı kimde ise onun aradığı cevaptan devam ederek sona ulaşılır. Sona kalan kutunun aradığı cevabı noktalı yere yazmalıyız.


9 x 6 kimde?

30	
7 x 6 kimde?	

24	
2 x 7 kimde?	

15	
6 x 10 kimde?	

32	
8 x 9 kimde?	

42	
10 x 2 kimde?	

80	
5 x 6 kimde?	

72	
10 x 8 kimde?	

14	
8 x 4 kimde?	

40	
8 x 8 kimde?	

60	
8 x 5 kimde?	

54	
8 x 3 kimde?	

20	
3 x 5 kimde?	

..... bende

.... Bende Kimde Çarpma 21


... BENDE KİMDE? (Çarpma)

Her kutu, kendinde olan cevabı üstte aradığı cevabı altta gösteriyor. Oyun baştaki soru ile başlıyor. O sorunun cevabı kimde ise onun aradığı cevaptan devam ederek sona ulaşılır. Sona kalan kutunun aradığı cevabı noktalı yere yazmalıyız.

4 x 6 kimde?

60	
9 x 7 kimde?	

56	
8 x 10 kimde?	


80	
10 x 3 kimde?	

16	
9 x 10 kimde?	

20	
7 x 8 kimde?	

30	
7 x 7 kimde?	

18	
8 x 2 kimde?	

49	
10 x 6 kimde?	

24	
10 x 7 kimde?	

90	
5 x 4 kimde?	

70	
3 x 7 kimde?	

21	
9 x 2 kimde?	


63 bende

... BENDE KİMDE? (Çarpma)

Her kutu, kendinde olan cevabı üstte aradığı cevabı altta gösteriyor. Oyun baştaki soru ile başlıyor. O sorunun cevabı kimde ise onun aradığı cevaptan devam ederek sona ulaşılır. Sona kalan kutunun aradığı cevabı noktalı yere yazmalıyız.


9 x 6 kimde?

30	
7 x 6 kimde?	

24	
2 x 7 kimde?	

15	
6 x 10 kimde?	

32	
8 x 9 kimde?	

42	
10 x 2 kimde?	

80	
5 x 6 kimde?	

72	
10 x 8 kimde?	

14	
8 x 4 kimde?	

40	
8 x 8 kimde?	

60	
8 x 5 kimde?	

54	
8 x 3 kimde?	

20	
3 x 5 kimde?	

64 bende

.... Bende Kimde Çarpma 21