

... BENDE KİMDE? (Çarpma)

Her kutu, kendinde olan cevabı üstte aradığı cevabı altta gösteriyor. Oyun baştaki soru ile başlıyor. O sorunun cevabı kimde ise onun aradığı cevaptan devam ederek sona ulaşılır. Sona kalan kutunun aradığı cevabı noktalı yere yazmalıyız.

5 x 4 kimde?

80	
7 x 4 kimde?	

35	
2 x 8 kimde?	

64	
2 x 7 kimde?	

27	
6 x 3 kimde?	

16	
4 x 8 kimde?	

20	
2 x 6 kimde?	


12	
5 x 7 kimde?	

72	
8 x 8 kimde?	

32	
10 x 3 kimde?	

30	
9 x 3 kimde?	

14	
10 x 8 kimde?	


18	
8 x 9 kimde?	

..... bende

... BENDE KİMDE? (Çarpma)

Her kutu, kendinde olan cevabı üstte aradığı cevabı altta gösteriyor. Oyun baştaki soru ile başlıyor. O sorunun cevabı kimde ise onun aradığı cevaptan devam ederek sona ulaşılır. Sona kalan kutunun aradığı cevabı noktalı yere yazmalıyız.

6 x 10 kimde?

81	
6 x 9 kimde?	

80	
5 x 3 kimde?	

70	
8 x 10 kimde?	

72	
10 x 3 kimde?	

64	
6 x 2 kimde?	

20	
8 x 8 kimde?	

54	
10 x 2 kimde?	

56	
4 x 10 kimde?	

12	
7 x 8 kimde?	

15	
9 x 9 kimde?	

60	
9 x 8 kimde?	

30	
7 x 10 kimde?	

..... bende

.... Bende Kimde Çarpma 22

... BENDE KİMDE? (Çarpma)

Her kutu, kendinde olan cevabı üstte aradığı cevabı altta gösteriyor. Oyun baştaki soru ile başlıyor. O sorunun cevabı kimde ise onun aradığı cevaptan devam ederek sona ulaşılır. Sona kalan kutunun aradığı cevabı noktalı yere yazmalıyız.

5 x 4 kimde?

80	
7 x 4 kimde?	


35	
2 x 8 kimde?	

64	
2 x 7 kimde?	

27	
6 x 3 kimde?	

16	
4 x 8 kimde?	

20	
2 x 6 kimde?	


12	
5 x 7 kimde?	

72	
8 x 8 kimde?	

32	
10 x 3 kimde?	

30	
9 x 3 kimde?	

14	
10 x 8 kimde?	


18	
8 x 9 kimde?	

28 bende

... BENDE KİMDE? (Çarpma)

Her kutu, kendinde olan cevabı üstte aradığı cevabı altta gösteriyor. Oyun baştaki soru ile başlıyor. O sorunun cevabı kimde ise onun aradığı cevaptan devam ederek sona ulaşılır. Sona kalan kutunun aradığı cevabı noktalı yere yazmalıyız.

6 x 10 kimde?

81	
6 x 9 kimde?	

80	
5 x 3 kimde?	

70	
8 x 10 kimde?	

72	
10 x 3 kimde?	

64	
6 x 2 kimde?	

20	
8 x 8 kimde?	

54	
10 x 2 kimde?	

56	
4 x 10 kimde?	

12	
7 x 8 kimde?	

15	
9 x 9 kimde?	

60	
9 x 8 kimde?	

30	
7 x 10 kimde?	

40 bende