


... BENDE KİMDE? (Çarpma)

Her kutu, kendinde olan cevabı üstte aradığı cevabı altta gösteriyor. Oyun baştaki soru ile başlıyor. O sorunun cevabı kimde ise onun aradığı cevaptan devam ederek sona ulaşılır. Sona kalan kutunun aradığı cevabı noktalı yere yazmalıyız.

5 x 4 kimde?

16	
4 x 8 kimde?	

14	
10 x 4 kimde?	

20	
3 x 6 kimde?	


30	
6 x 4 kimde?	

35	
2 x 8 kimde?	

18	
5 x 7 kimde?	

40	
10 x 8 kimde?	

36	
8 x 9 kimde?	

72	
9 x 9 kimde?	

32	
10 x 3 kimde?	

81	
2 x 7 kimde?	

24	
9 x 4 kimde?	

..... bende

... BENDE KİMDE? (Çarpma)

Her kutu, kendinde olan cevabı üstte aradığı cevabı altta gösteriyor. Oyun baştaki soru ile başlıyor. O sorunun cevabı kimde ise onun aradığı cevaptan devam ederek sona ulaşılır. Sona kalan kutunun aradığı cevabı noktalı yere yazmalıyız.

5 x 9 kimde?

30	
8 x 8 kimde?	

25	
7 x 4 kimde?	

90	
6 x 9 kimde?	

24	
4 x 10 kimde?	

12	
9 x 7 kimde?	

63	
5 x 4 kimde?	

54	
2 x 6 kimde?	

28	
9 x 10 kimde?	

45	
8 x 3 kimde?	

40	
5 x 5 kimde?	

20	
10 x 3 kimde?	

64	
7 x 3 kimde?	

..... bende

.... Bende Kimde Çarpma 23

... BENDE KİMDE? (Çarpma)

Her kutu, kendinde olan cevabı üstte aradığı cevabı altta gösteriyor. Oyun baştaki soru ile başlıyor. O sorunun cevabı kimde ise onun aradığı cevaptan devam ederek sona ulaşılır. Sona kalan kutunun aradığı cevabı noktalı yere yazmalıyız.

5 x 4 kimde?


16	
4 x 8 kimde?	


14	
10 x 4 kimde?	

20	
3 x 6 kimde?	


30	
6 x 4 kimde?	

35	
2 x 8 kimde?	

18	
5 x 7 kimde?	

40	
10 x 8 kimde?	

36	
8 x 9 kimde?	

72	
9 x 9 kimde?	

32	
10 x 3 kimde?	

81	
2 x 7 kimde?	

24	
9 x 4 kimde?	

80 bende

... BENDE KİMDE? (Çarpma)

Her kutu, kendinde olan cevabı üstte aradığı cevabı altta gösteriyor. Oyun baştaki soru ile başlıyor. O sorunun cevabı kimde ise onun aradığı cevaptan devam ederek sona ulaşılır. Sona kalan kutunun aradığı cevabı noktalı yere yazmalıyız.


5 x 9 kimde?

30	
8 x 8 kimde?	

25	
7 x 4 kimde?	

90	
6 x 9 kimde?	

24	
4 x 10 kimde?	

12	
9 x 7 kimde?	

63	
5 x 4 kimde?	

54	
2 x 6 kimde?	

28	
9 x 10 kimde?	

45	
8 x 3 kimde?	

40	
5 x 5 kimde?	

20	
10 x 3 kimde?	

64	
7 x 3 kimde?	

21 bende

.... Bende Kimde Çarpma 23