


## ... BENDE .... KİMDE? (Çarpma)

Her kutu, kendinde olan cevabı üstte aradığı cevabı altta gösteriyor. Oyun baştaki soru ile başlıyor. O sorunun cevabı kimde ise onun aradığı cevaptan devam ederek sona ulaşılır. Sona kalan kutunun aradığı cevabı noktalı yere yazmalıyız.


8 x 7 kimde?

72	
3 x 7 kimde?	

35	
9 x 8 kimde?	


49	
4 x 6 kimde?	

50	
4 x 7 kimde?	

24	
9 x 7 kimde?	

63	
7 x 5 kimde?	

56	
6 x 9 kimde?	

80	
7 x 7 kimde?	

21	
5 x 6 kimde?	

40	
8 x 10 kimde?	

54	
8 x 5 kimde?	

30	
5 x 10 kimde?	


..... bende

## ... BENDE .... KİMDE? (Çarpma)

Her kutu, kendinde olan cevabı üstte aradığı cevabı altta gösteriyor. Oyun baştaki soru ile başlıyor. O sorunun cevabı kimde ise onun aradığı cevaptan devam ederek sona ulaşılır. Sona kalan kutunun aradığı cevabı noktalı yere yazmalıyız.

8 x 8 kimde?

48	
6 x 3 kimde?	

12	
8 x 7 kimde?	

70	
6 x 7 kimde?	

35	
5 x 6 kimde?	


60	
7 x 10 kimde?	

18	
8 x 3 kimde?	

64	
5 x 3 kimde?	

30	
2 x 6 kimde?	

42	
6 x 8 kimde?	

24	
5 x 7 kimde?	

56	
10 x 10 kimde?	

15	
10 x 6 kimde?	


..... bende

.... Bende .... Kimde Çarpma 26

## ... BENDE .... KİMDE? (Çarpma)

Her kutu, kendinde olan cevabı üstte aradığı cevabı altta gösteriyor. Oyun baştaki soru ile başlıyor. O sorunun cevabı kimde ise onun aradığı cevaptan devam ederek sona ulaşılır. Sona kalan kutunun aradığı cevabı noktalı yere yazmalıyız.

8 x 7 kimde?

72	
3 x 7 kimde?	

35	
9 x 8 kimde?	

49	
4 x 6 kimde?	

50	
4 x 7 kimde?	

24	
9 x 7 kimde?	

63	
7 x 5 kimde?	

56	
6 x 9 kimde?	

80	
7 x 7 kimde?	

21	
5 x 6 kimde?	

40	
8 x 10 kimde?	

54	
8 x 5 kimde?	

30	
5 x 10 kimde?	


28 bende

## ... BENDE .... KİMDE? (Çarpma)

Her kutu, kendinde olan cevabı üstte aradığı cevabı altta gösteriyor. Oyun baştaki soru ile başlıyor. O sorunun cevabı kimde ise onun aradığı cevaptan devam ederek sona ulaşılır. Sona kalan kutunun aradığı cevabı noktalı yere yazmalıyız.

8 x 8 kimde?

48	
6 x 3 kimde?	

12	
8 x 7 kimde?	

70	
6 x 7 kimde?	

35	
5 x 6 kimde?	


60	
7 x 10 kimde?	

18	
8 x 3 kimde?	

64	
5 x 3 kimde?	

30	
2 x 6 kimde?	

42	
6 x 8 kimde?	

24	
5 x 7 kimde?	

56	
10 x 10 kimde?	

15	
10 x 6 kimde?	

100 bende

... Bende .... Kimde Çarpma 26