

## ... BENDE .... KİMDE? (Çarpma)

Her kutu, kendinde olan cevabı üstte aradığı cevabı altta gösteriyor. Oyun baştaki soru ile başlıyor. O sorunun cevabı kimde ise onun aradığı cevaptan devam ederek sona ulaşılır. Sona kalan kutunun aradığı cevabı noktalı yere yazmalıyız.

2 x 10 kimde?


54	
6 x 7 kimde?	

16	
10 x 8 kimde?	

28	
9 x 4 kimde?	


25	
5 x 7 kimde?	

80	
9 x 9 kimde?	

72	
5 x 5 kimde?	

20	
8 x 2 kimde?	

42	
3 x 9 kimde?	

35	
7 x 8 kimde?	

81	
7 x 4 kimde?	

27	
9 x 8 kimde?	

36	
6 x 9 kimde?	

..... bende

## ... BENDE .... KİMDE? (Çarpma)

Her kutu, kendinde olan cevabı üstte aradığı cevabı altta gösteriyor. Oyun baştaki soru ile başlıyor. O sorunun cevabı kimde ise onun aradığı cevaptan devam ederek sona ulaşılır. Sona kalan kutunun aradığı cevabı noktalı yere yazmalıyız.

7 x 10 kimde?

80	
10 x 5 kimde?	

72	
6 x 8 kimde?	

49	
6 x 9 kimde?	

40	
7 x 7 kimde?	

32	
7 x 2 kimde?	

36	
6 x 3 kimde?	

18	
3 x 7 kimde?	

14	
4 x 9 kimde?	

48	
8 x 10 kimde?	

50	
4 x 10 kimde?	

70	
4 x 8 kimde?	

21	
8 x 9 kimde?	

..... bende

.... Bende .... Kimde Çarpma 27

## ... BENDE .... KİMDE? (Çarpma)

Her kutu, kendinde olan cevabı üstte aradığı cevabı altta gösteriyor. Oyun baştaki soru ile başlıyor. O sorunun cevabı kimde ise onun aradığı cevaptan devam ederek sona ulaşılır. Sona kalan kutunun aradığı cevabı noktalı yere yazmalıyız.

2 x 10 kimde?


54	
6 x 7 kimde?	

16	
10 x 8 kimde?	

28	
9 x 4 kimde?	

25	
5 x 7 kimde?	

80	
9 x 9 kimde?	

72	
5 x 5 kimde?	

20	
8 x 2 kimde?	

42	
3 x 9 kimde?	

35	
7 x 8 kimde?	

81	
7 x 4 kimde?	

27	
9 x 8 kimde?	

36	
6 x 9 kimde?	

56 bende

## ... BENDE .... KİMDE? (Çarpma)


Her kutu, kendinde olan cevabı üstte aradığı cevabı altta gösteriyor. Oyun baştaki soru ile başlıyor. O sorunun cevabı kimde ise onun aradığı cevaptan devam ederek sona ulaşılır. Sona kalan kutunun aradığı cevabı noktalı yere yazmalıyız.

7 x 10 kimde?

80	
10 x 5 kimde?	

72	
6 x 8 kimde?	

49	
6 x 9 kimde?	

40	
7 x 7 kimde?	

32	
7 x 2 kimde?	

36	
6 x 3 kimde?	

18	
3 x 7 kimde?	

14	
4 x 9 kimde?	

48	
8 x 10 kimde?	

50	
4 x 10 kimde?	

70	
4 x 8 kimde?	

21	
8 x 9 kimde?	

54 bende