

... BENDE KİMDE? (Çarpma)

Her kutu, kendinde olan cevabı üstte aradığı cevabı altta gösteriyor. Oyun baştaki soru ile başlıyor. O sorunun cevabı kimde ise onun aradığı cevaptan devam ederek sona ulaşılır. Sona kalan kutunun aradığı cevabı noktalı yere yazmalıyız.

7 x 6 kimde?

42	
4 x 8 kimde?	

56	
10 x 10 kimde?	

15	
8 x 5 kimde?	

60	
3 x 5 kimde?	

100	
4 x 9 kimde?	

24	
7 x 9 kimde?	

40	
5 x 4 kimde?	

63	
6 x 5 kimde?	

30	
6 x 10 kimde?	

36	
9 x 3 kimde?	

32	
6 x 4 kimde?	


20	
8 x 7 kimde?	


..... bende

... BENDE KİMDE? (Çarpma)

Her kutu, kendinde olan cevabı üstte aradığı cevabı altta gösteriyor. Oyun baştaki soru ile başlıyor. O sorunun cevabı kimde ise onun aradığı cevaptan devam ederek sona ulaşılır. Sona kalan kutunun aradığı cevabı noktalı yere yazmalıyız.

10 x 7 kimde?

24	
5 x 5 kimde?	

18	
6 x 7 kimde?	


90	
2 x 9 kimde?	

45	
9 x 10 kimde?	


36	
4 x 8 kimde?	

25	
4 x 7 kimde?	

56	
8 x 3 kimde?	

42	
8 x 7 kimde?	

64	
10 x 6 kimde?	

28	
8 x 8 kimde?	

32	
9 x 5 kimde?	

70	
9 x 4 kimde?	

..... bende

... BENDE KİMDE? (Çarpma)

Her kutu, kendinde olan cevabı üstte aradığı cevabı altta gösteriyor. Oyun baştaki soru ile başlıyor. O sorunun cevabı kimde ise onun aradığı cevaptan devam ederek sona ulaşılır. Sona kalan kutunun aradığı cevabı noktalı yere yazmalıyız.

7 x 6 kimde?

42	
4 x 8 kimde?	

56	
10 x 10 kimde?	

15	
8 x 5 kimde?	

60	
3 x 5 kimde?	

100	
4 x 9 kimde?	

24	
7 x 9 kimde?	


40	
5 x 4 kimde?	

63	
6 x 5 kimde?	

30	
6 x 10 kimde?	

36	
9 x 3 kimde?	

32	
6 x 4 kimde?	

20	
8 x 7 kimde?	


27 bende

... BENDE KİMDE? (Çarpma)

Her kutu, kendinde olan cevabı üstte aradığı cevabı altta gösteriyor. Oyun baştaki soru ile başlıyor. O sorunun cevabı kimde ise onun aradığı cevaptan devam ederek sona ulaşılır. Sona kalan kutunun aradığı cevabı noktalı yere yazmalıyız.

10 x 7 kimde?

24	
5 x 5 kimde?	

18	
6 x 7 kimde?	


90	
2 x 9 kimde?	

45	
9 x 10 kimde?	

36	
4 x 8 kimde?	

25	
4 x 7 kimde?	

56	
8 x 3 kimde?	

42	
8 x 7 kimde?	

64	
10 x 6 kimde?	

28	
8 x 8 kimde?	

32	
9 x 5 kimde?	

70	
9 x 4 kimde?	

60 bende